

# 地理试卷

(全卷两个大题, 33 个小题, 共 8 页; 满分 100 分, 考试用时 90 分钟)

## 注意事项:

1. 答题前, 考生务必用黑色碳素笔将自己的姓名、准考证号、考场号、座位号在答题卡上填写清楚, 并认真核准条形码上的准考证号及姓名, 在规定的位置贴好条形码。
2. 考生必须把所有的答案填写在答题卡上, 答在试卷上的答案无效。
3. 选择题每小题选出答案后, 用 2B 铅笔把答题卡上对应题目的答案选项框涂黑。如需改动, 用橡皮擦擦干净后, 再选涂其它答案选项框, 不要填涂和勾划无关选项。其他试题用黑色碳素笔作答, 答案不要超出给定的答题框。
4. 考生必须按规定的方法和要求答题, 不按要求答题所造成的后果由本人自负。
5. 考试结束后, 将本试卷和答题卡一并交回。

## 第 I 卷 (选择题, 共 50 分)

一、选择题 (在下列各题四个选项中只有一项最符合题意, 请用 2B 铅笔在答题卡上填涂。每小题 2 分, 共 50 分)

C 1. 图 1 有关大洲、大洋叙述, 正确的是

- A. 太平洋位于北美洲西部
- B. 欧洲大部分位于北寒带
- C. 亚非分界为苏伊士运河
- D. 南极洲是面积最大的洲

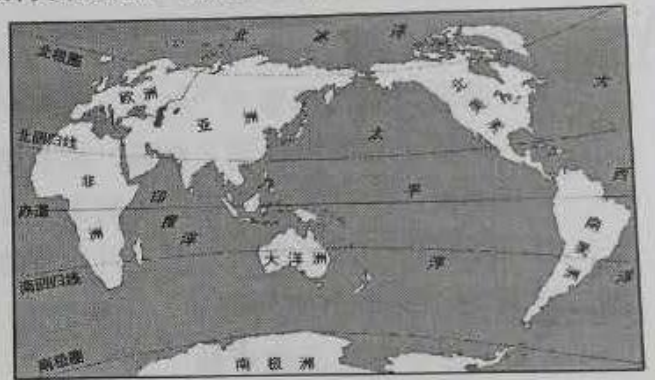


图 1

B 2. 图 2 关于板块运动, 说法正确的是

- A. A 高原的形成是亚欧板块与非洲板块的挤压
- B. B 处多火山地震的原因是位于板块交界地带
- C. C 山脉的形成是亚欧板块与非洲板块的张裂
- D. D 海域缩小是非洲板块与印度洋板块的挤压



图 2

D 3. 图 3 为一组天气符号, 可能导致飞机延误的天气是

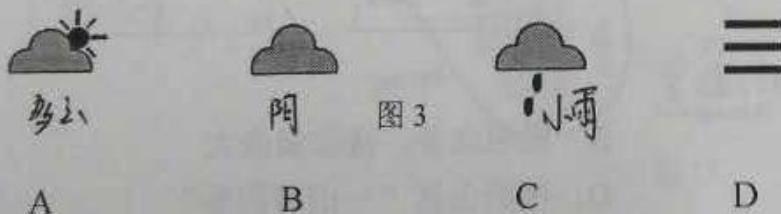
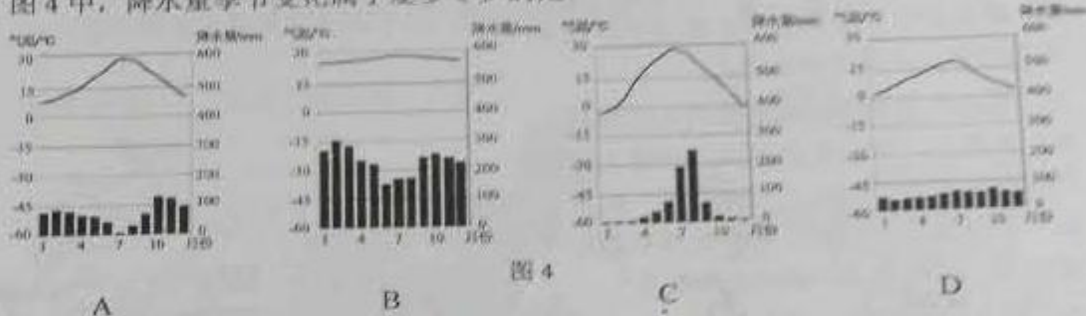


图 3

4. 关于共享单车推广的环保意义, 说法错误的是

- A. 提高空气质量
- B. 解决交通拥堵
- C. 利于节能减排
- D. 减轻温室效应

5. 图4中, 降水量季节变化属于夏多冬少的是



6. 关于世界人种和宗教的说法, 正确的是

- A. 黄种人主要分布东亚、东南亚
- B. 黑色人种的故乡是南、北美洲
- C. 阿拉伯人信仰基督教
- D. 佛教建筑物为清真寺

7. 图5中属于阿拉伯人的传统民居是



8. 有关亚洲自然环境特征的叙述, 正确的是

- A. 亚洲地势使河流由四周流向中部
- B. 亚洲地形单一导致气候类型单一
- C. 亚洲季风气候区河流夏季水量小
- D. 亚洲河流多发源于中部高原山地

9. 关于气候对生产生活的影晌, 正确的是

- A. 沙漠气候区骆驼誉为“沙漠之舟”
- B. 温带海洋性气候区多水旱灾害
- C. 东南亚的热带气候区以面食为主
- D. 亚洲的季风气候区畜牧业发达

10. 读图6, 有关南极地区说法错误的是

- A. 海拔高, 称为冰雪高原
- B. 气候酷寒、干燥、烈风
- C. 淡水等自然资源丰富
- D. 全部位于南极圈以内

11. 关于中国的地理位置, 下列说法正确的是

- A. 位于亚洲东部, 大西洋西岸
- B. 西部通过海上交通与多国交往
- C. 位于北半球, 大部分在北温带
- D. 南北跨纬度广, 温度差异小

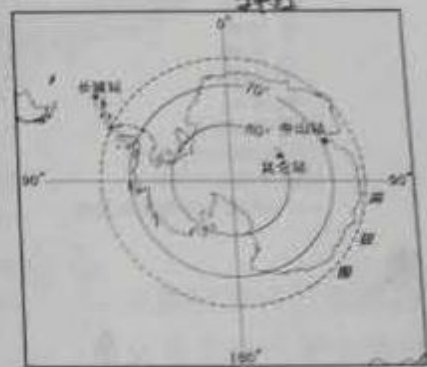


图6

18. 读图 10, 关于北京的叙述, 正确的是

- A. 北京背靠群山邻近渤海
- B. 北京位于雄安新区南面
- C. 北京地势东南高西北低
- D. 北京是全国的经济中心



图 10

19. 关于“秦岭—淮河”地理意义的叙述, 正确的是

- ① 800mm 年等降水量线
- ② 季风区与非季风区分界
- ③ 1 月 0°C 等温线
- ④ 耕地和草地分界

- A. ①③
- B. ②④
- C. ①②
- D. ③④

20. 图 11 的传统体育活动“赛龙舟”所属的地理区域是

- A. 北方地区
- B. 南方地区
- C. 西北地区
- D. 青藏地区



图 11

21. 关于我国四大地理区域的叙述, 正确的是

- A. 北方以热带季风气候为主
- B. 南方黑土地和黄土地广布
- C. 西北干旱的环境多内流河
- D. 青藏地区以平原丘陵为主

22. 下列是《航拍中国》摄制组人员在日记中记录的各地特色文化, 其中描述有误的是

- A. 西藏, 藏民用誉为“高原之舟”的三河马为摄制组运送物品
- B. 新疆, 晾房里挂满了葡萄, 维吾尔族用香甜的瓜果款待我们
- C. 陕西, 冬暖夏凉的窑洞住起来十分舒适, 安塞腰鼓热情奔放
- D. 海南岛, 烈日炎炎, 喝上几口甘甜的椰汁顿时觉得神清气爽

23. 读图 12, 关于台湾的叙述, 正确的是

- A. 平原分布在岛屿南部
- B. 有“东方甜岛”之称
- C. 西隔台湾海峡与广东省相望
- D. 农作物集中分布在东部沿海

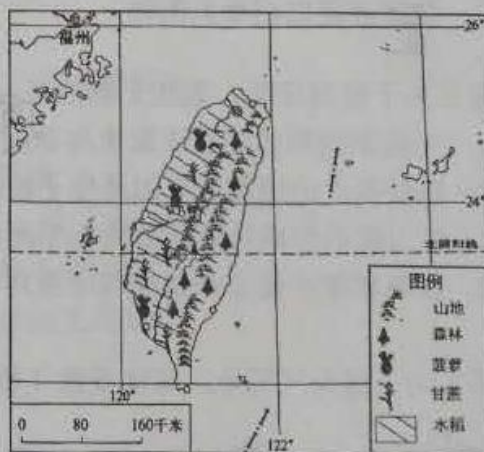


图 12

24. 云南成为我国对外联系的“桥头堡”, 是因为

- A. 濒临印度洋和太平洋, 海运便利
- B. 南回归线穿过南部, 地处低纬度
- C. 邻省众多, 东邻四川和西藏
- D. 邻近东南亚和南亚, 邻国多

25. 关于云南的自然地理环境, 正确的是

- A. 地形以平原、丘陵为主
- B. 湖泊众多, 抚仙湖最大
- C. 金沙江为珠江上游河段
- D. 横断山区“一山有四季”

- B 12. 关于中国的疆域，说法正确的是
- A. 北部邻蒙古，东北部邻朝鲜
  - B. 岛屿众多，最大岛为海南岛
  - C. 从北向南临渤海、黄海、东海、南海
  - D. 最北端位于乌苏里江主航道中心线上

- D 13. 有关我国人口说法错误的是
- A. 老龄化是目前面临的新的人口问题
  - B. 基数大、增长快仍是人口的基本特征
  - C. 人口减少，实施“全面二孩”政策
  - D. 交通拥挤，就业、就学困难依然存在

- C A 14. 读图 7，有关长江的说法正确的是
- A. 源于昆仑山脉，注入东海
  - B. 三峡水电站位于宜宾以西
  - C. 有“黄金水道”之称
  - D. 最长的支流是嘉陵江



图 7

- B 15. 读图 8，有关黄河的说法正确的是
- A. 上游水能资源缺乏
  - B. 中游流经黄土高原
  - C. 下游河段支流众多
  - D. A 河段有凌汛现象



图 8

- D 16. 读图 9 关于我国农业的分布，说法正确的是



图 9

- A. 东部地区只有种植业
  - B. 林业主要分布在西部盆地
  - C. 甘蔗主要种植在东北
  - D. 长江流域是重要油菜产区
- B 17. 小明周末和父母从昆明市到富民县采摘杨梅，他们选择的合理交通运输方式是
- A. 铁路
  - B. 公路
  - C. 河运
  - D. 航空

## 第 II 卷 (非选择题, 共 50 分)

二、综合题 (每空 1 分, 共 50 分)

26. 图 13 为同学们演示地球公转的示意图, 读图回答问题 (5 分)

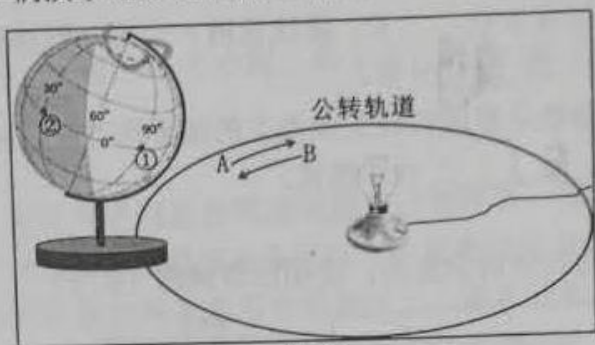


图 13

- (1) 图中箭头演示地球公转方向正确的是 A (A/B)。
- (2) 当地球仪演示至图中所示位置时, 北半球是 冬至 节气。
- (3) ①的经纬度是 0° 90°E。①和②两点相比 ① 时刻更早。
- (4) 观察图中经纬线的特点, 判断下列说法正确的是 ( A )
- A. 纬线互相平行                      B. 纬线指示南北方向
- C. 经线都是圆圈                      D. 经线长度不等

27. 图 14 为某地等高线地形图, 读图回答问题 (5 分)

- (1) 甲山峰在乙山峰的 东北 方向。  
甲、乙两山峰的相对高度是 23 米。
- (2) M 和 N 处易形成河流的是 N。
- P 处的地形部位是 ( B )
- A. 鞍部                      B. 陡崖                      C. 山脊                      D. 山谷
- (3) 该图所示的地形类型是 平原。

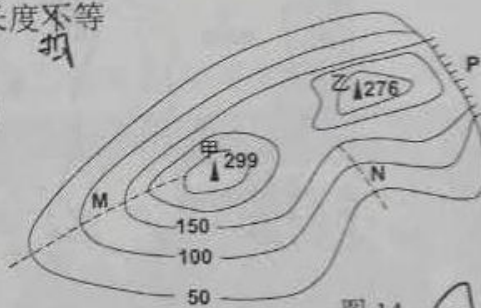


图 14

28. 读图 15, 回答下列问题 (8 分)



图 15

- (1) ①海湾是波斯湾，石油资源丰富，图示该种资源三条外运航线中，向东运输经过的海上咽喉②是马六甲海峡，其中运量最大的是经过③大洲南端的①航线。
- (2) ③、④半岛的气候类型是热带季风气候，多旱涝灾害。
- (3) ⑤大洲终年温和湿润的气候利于多汁牧草生长，畜牧业发达。
- (4) ⑥大洲因长期遭受殖民统治，使许多国家形成“单一商品经济”。

29. 读图 16 和 17，完成下列各题 (7 分)

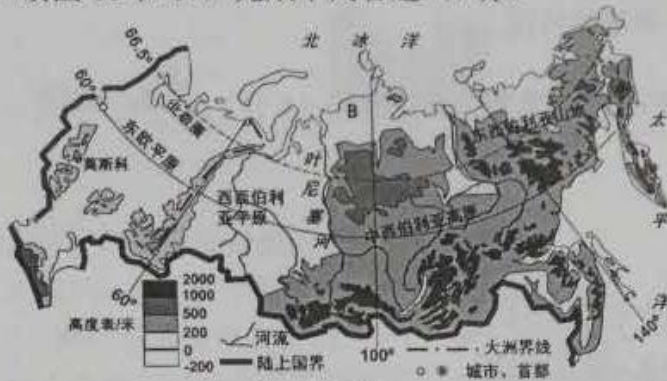


图 16 俄罗斯



图 17 巴西

- (1) 从纬度位置看，俄罗斯大部分位于北温带，北极圈以北地区位于北寒带。
- (2) 俄罗斯拥有世界上最大的亚寒带针叶林带，而巴西 A 处拥有世界上最大的热带森林，这些森林对调节全球气候、涵养水源等起重要作用。
- (3) AB 两处人烟稀少，A 处是因为气候过于湿热，B 处是因为气候寒冷。
- (4) 巴西最大港口，即 2016 年奥运会举办城市 C 为巴西利亚圣保罗。巴西作为世界民族的大熔炉，形成多元的巴西文化，著名的民族舞蹈是桑巴舞。
- (5) 如果有一艘货轮从巴西驶向俄罗斯，上面装载的货物最有可能的是 ( D )  
A. 煤      B. 铁      C. 石油      D. 咖啡
- (6) 关于两国地理特征的相似性说法正确的是 ( C )  
A. 首都濒临大西洋      B. 地形以平原丘陵为主  
C. 河流的结冰期长      D. 地势东南高、西北低

30. 图 18 为中国区域示意图，读图回答 (6 分)



图 18

- (1) 图中我国内海 A 是 渤 海。
- (2) B 省区简称是 冀，图中的高铁是 京广 线。
- (3) 图中的第三级阶梯地形以 山地 和丘陵为主，这里人口分布 稠密 (稠密/稀疏)。
- (4) 关于我国民族分布特征，下列说法正确的是 ( B )
- A. 汉族只分布在西部和中部
  - B. 少数民族主要分布在华北、东南、西南
  - C. 蒙古族集中于内蒙古，体现小聚居特征
  - D. 民族分布具有大聚居、小杂居的特征

31. 图 19 为我国年降水量及水资源空间分布示意图，读图回答 (6 分)



图 19

- (1) 我国降水量空间分布的总趋势是从 东南沿海 向西北内陆递减。
- (2) 根据年降水量空间分布推断，我国西北内陆土地利用类型以 ( A ) 为主。
- A. 耕地
  - B. 草地
  - C. 林地
  - D. 建设用地
- (3) 我国水资源南方 多，北方少，西北最少；解决水资源空间分布不均的措施是 跨流域调水。
- (4) 据图推断，南方河流流量比北方 大 (大/小)，四大地理区域中发展农业最缺水的区域是 ( C )
- A. 北方地区
  - B. 南方地区
  - C. 西北地区
  - D. 青藏地区

32. 图 20 为我国南方地区及相关气候资料示意图，据此回答下列问题 (7 分)



图 20

- (1) ①地形区的气候类型为 热带季风气候，这里水热充足，地形 平坦，土壤肥沃，农业发达，成为我国著名的“鱼米之乡”。
- (2) ①地形区位于长江下游，易发生 凌汛 灾害；②地形区位于长江上游，为减少此灾害，该地应该 ( A )
- A. 植树造林    B. 过度放牧    C. 陡坡垦植    D. 毁林开荒
- (3) 图中城市的分布特点是：沿 海河 分布。
- (4) ③ 珠江三角洲 工业基地是我国以轻工业为主的综合性工业基地。这里和港澳地区形成独特的“前店后厂”合作模式。

33. 图 21 为云南及周边区域和相关资料示意图，读图回答问题 (6 分)



图 21

- (1) 与云南相邻的内陆国 A 是 老挝。云南通往境外的公路 B 是 昆曼 公路。
- (2) C 为横断山区的世界自然遗产“澜沧江”。横断山区河流落差大，水能 资源丰富。
- (3) 图中的东巴文字为云南的 ( D ) 少数民族创造的。
- A. 傣族    B. 白族  
C. 彝族    D. 纳西族
- (4) 保护滇池人人有责，下列做法正确的是 ( A )
- A. 扩大湿地面积    B. 排放工业污水  
C. 多使用洗涤剂    D. 水源地丢垃圾



# 地理参考答案及评分标准

## 一、选择题 (每题 2 分, 共 50 分)

|    |    |    |    |    |    |    |    |    |    |    |
|----|----|----|----|----|----|----|----|----|----|----|
| 题号 | 1  | 2  | 3  | 4  | 5  | 6  | 7  | 8  | 9  | 10 |
| 答案 | C  | B  | D  | B  | C  | A  | A  | D  | A  | D  |
| 题号 | 11 | 12 | 13 | 14 | 15 | 16 | 17 | 18 | 19 | 20 |
| 答案 | C  | A  | C  | C  | B  | D  | B  | A  | A  | B  |
| 题号 | 21 | 22 | 23 | 24 | 25 |    |    |    |    |    |
| 答案 | C  | A  | B  | D  | D  |    |    |    |    |    |

## 二、综合题 (每空 1 分, 共 50 分)

26. (5 分)

- (1) B (2) 夏至  
 (3)  $0^{\circ}$ ,  $90^{\circ}$  E (或  $90^{\circ}$  E,  $0^{\circ}$ ) ① (4) A

27. (5 分)

- (1) 西南 23  
 (2) N B  
 (3) 丘陵

28. (8 分)

- (1) 波斯湾 石油 马六甲 好望角 (2) 热带季风气候 旱涝 (水旱)  
 (3) 畜牧 (乳畜) (4) 单一商品

29. (7 分)

- (1) 北寒  
 (2) 热带雨林  
 (3) 纬度高, 气候寒冷  
 (4) 里约热内卢 桑巴舞

(5) D

(6) D

30. (6 分)

- (1) 渤 (2) 冀 京广  
 (3) 平原 稠密 (4) C

31. (6 分)

- (1) 东南沿海 (2) B  
 (3) 多 跨流域调水 (4) 大 C

32. (7 分)

- (1) 亚热带季风气候 平坦 (2) 洪涝 (水灾) A  
 (3) 河流 (河、江、长江) (4) 珠江三角洲 前店后厂

33. (6 分)

- (1) 老挝 昆曼 (2) 三江并流 水能 (水力)  
 (3) D (4) A