

黄石市2017年初中毕业生学业考试

文科综合试题卷

姓名: _____ 准考证号: _____

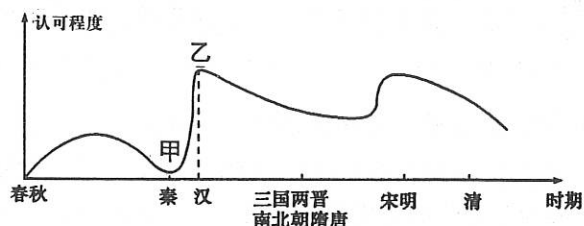
注意事项:

1. 本试卷分试题卷和答题卡两部分; 考试时间为100分钟; 满分80分, 其中思想品德40分, 历史40分。
2. 考生在答题前请阅读答题卡中的“注意事项”, 然后按要求答题。
3. 所有答案均须做在答题卡相应区域, 做在其他区域无效。

第 I 卷 (选择题 共35分)

第 I 卷共 35 题。1 ~ 19 题为历史学科试题, 20 ~ 35 题为思想品德学科试题。每题 1 分, 共 35 分。在每题所列的四个选项中, 只有一项是最符合题目要求的。

1. 在黄石大冶章山发现距今三、四十万年的石龙头文化遗址属于
A. 旧石器时代 B. 新石器时代 C. 金石并用时代 D. 青铜时代
2. 中国共产党成立以后, 最早来黄石传播革命真理和开展建党工作的是
A. 仇国升 B. 刘敢生 C. 林育英 D. 林家庆
3. 西周时期形成金字塔似的森严等级: 天子为最高等级, 下面依次为诸侯、卿大夫和士, 都属于统治阶级, 压迫着广大平民和奴隶。这种等级制度的形成是因为
A. 禅让制 B. 世袭制 C. 郡县制 D. 分封制
4. 右图是不同时期的人们对孔子和儒家认可程度的变化曲线图。图中出现甲、乙所示状况分别与什么现象有关?
A. 百家争鸣, 焚书坑儒
B. 焚书坑儒, 独尊儒术
C. 百家争鸣, 独尊儒术
D. 焚书坑儒, 八股取士
5. 2017 年是我国恢复高考 40 周年, 高考制度有利于国家人才的选拔。历史学者威尔·杜兰特在《世界文明史》里评价我国古代某制度曾写道: “没有操纵的提名, 没有伪君子卑鄙的争夺……没有混战或腐化的选举, 没有仅凭巧言而能登入仕途的现象”。他称赞的是中国古代的
A. 中央集权制 B. 九品中正制 C. 郡县制 D. 科举制
6. 梁启超针对明清时期的社会状况说过: “郑和之后, 再无郑和”, 中国逐渐脱离世界发展潮流。他指的是明清时期
A. 重农抑商 B. 闭关锁国 C. 君主专制的加强 D. 八股取士
7. 戊戌变法和辛亥革命是中国近代化过程中的两次伟大实践。二者的共同主张有
A. 通过学习西方先进技术来挽救民族危机 B. 推翻君主制度
C. 在中国建立资本主义民主制度 D. 用西方的民主与科学来救中国
8. 新华社特稿《在历史关节点上》这样说: “中国共产党领导中国革命的奋斗历程, 走了整整 28 年。期间, 中国共产党先后经历了‘日出东方’、‘星火燎原’、‘力挽狂澜’、‘灯塔指引’、‘进京赶考’五个关键阶段”。其中‘星火燎原’是指
A. 井冈山革命根据地的建立 B. 中国共产党的成立
C. 确立毛泽东思想为党的指导思想 D. 召开遵义会议



9. 右图是我国著名的中药品牌, 该品牌企业创办于 1669 年, 以配方奇特、制作精湛、药品货真价实而闻名于海内外。1954 年经营该品牌老店的经理乐松生响应号召, 把该店交给了国家。这一行为的时代背景是
A. 人民公社化运动 B. 新中国的成立
C. 中共八大的召开 D. 进行三大改造

10. 下列有关世界古代文明的内容对应正确的有
①古埃及文明——金字塔 ②古巴比伦文明——种姓制度
③古印度文明——《汉谟拉比法典》 ④古希腊文明——雅典民主
A. ①② B. ①④ C. ③④ D. ②③
11. 14~16 世纪被世人认为是“人”和“世界”被发现的时代。其中“人”的被发现是指
A. 资本主义萌芽 B. 工业革命 C. 文艺复兴运动 D. 资产阶级革命
12. 在英国、美国、法国早期资产阶级革命的过程中出现过一些法律性质的文献, 其中标志着资本主义民主政治体制在本国正式确立的是
①英国《权利法案》 ②美国《独立宣言》 ③美国《1787 年宪法》 ④法国《人权宣言》
A. ①③ B. ②④ C. ①④ D. ③④
13. 计量统计分析是历史学习的一种重要方法。根据表中信息, 下列选项中对列强实力变化原因的分析正确的是

项目	英国	法国	德国	美国
19 世纪中期工业产值所占位次	1	2	4	3
1870—1913 年工业增长倍数	1.3	1.9	4.6	8.1
1913 年工业产量所占位次	3	4	2	1

- A. 美国、德国实力变化是因为两国较早地确立了资本主义制度
- B. 英国、法国实力变化是因为国内局势动荡
- C. 英国、法国实力变化是因为开展工业革命较晚
- D. 美国、德国实力变化主要是得益于第二次工业革命
14. 《大国崛起》解说词中说: “在某种意义上, 有人说, 他(美国总统)挽救了市场经济。……开创了市场经济的新模式, 在这种模式中, ……市场的作用和政府的作用同时得以发挥”。材料中提到的美国总统是
A. 华盛顿 B. 林肯 C. 罗斯福 D. 尼克松
15. 下列选项中最能体现第二次世界大战取得胜利的主要原因是
A. 世界反法西斯力量的联合 B. 英美盟军在诺曼底登陆
C. 美军在日本投放原子弹打击日军 D. 苏联在苏德战场抗击德军和参加对日作战
16. 九年级某班开展研究性学习, 制作了学习卡片(见右图)。该学习卡片的主题应该是
A. 美苏争霸
B. 冷战政策
C. 经济全球化
D. 多极化趋势
17. 近代以来欧洲有三次统一的尝试和努力: 第一次是法国主导, 结果失败; 第二次是德国主导, 也以失败告终; 第三次是法德和解促成统一。“法德和解促成统一”是指
A. 拿破仑帝国的建立
B. 第一次世界大战后凡尔赛体系的建立
C. 第二次世界大战中德国的侵略
D. 第二次世界大战后欧洲的联合

主题: _____

内容: 杜鲁门主义
马歇尔计划
北大西洋公约组织

18. 第二次世界大战后, 亚洲、非洲和拉美地区的民族解放运动高涨, 其中著名的领导人有
①章西女王 ②尼赫鲁 ③玻利瓦尔 ④纳赛尔
A. ①② B. ②③ C. ②④ D. ③④
19. 2017年6月初, 美国总统特朗普为发展经济, 宣布退出保护全球气候的《巴黎协定》。吴国盛在《科学的历程》中写道: “……, 在科学成功的背后, 我们必须看到一个潜在的危险在显露出来: 人类通过大规模地开发大自然, 虽然掌握了更高的能量, 有了支配自然界的能力, 但却动摇了人类生存的根基”, 他的主要观点认为科技革命影响了
A. 人类社会的生态环境 B. 世界经济的发展
C. 国家之间的关系 D. 人类生活的方便舒适

20. 如右图所示, 该家庭的类型属于



- A. 核心家庭
B. 单亲家庭
C. 主干家庭
D. 联合家庭
21. 古人说: “与善人居, 如入芝兰之室, 久而不闻其香, 即与之化矣; 与不善人居, 如入鲍鱼之肆, 久而不闻其臭, 亦与之化矣。”这句话告诉我们
A. 善于与不同的人交友 B. 要与优秀的人做朋友
C. 交友时需要坦诚相待 D. 对朋友的错误要宽容


22. 2017年世界移动通讯大会不久前落下帷幕, 第五代移动通讯技术(5G)成为大会的焦点议题。中兴、高通和中国移动宣布共同开展5G实验, 以便加速5G在中国的大规模部署, 华为在多个国家与运营商就5G开展合作。下列选项中观点正确的是
①合作是事业成功的土壤, 科技的发展需要加强合作
②合作能提高工作效率, 只要合作就一定能取得成功
③合作是共享的基础, 参与合作各方不存在竞争关系
④合作应体现“双赢”原则, 做到合作各方相互促进
A. ①② B. ①④ C. ②③ D. ②④

23. 随着经济和社会的快速发展、互联网等新技术的广泛应用、我们的生活越来越便利化的同时, 利用网络技术的诈骗行为已成为损害民众切身利益和互联网新兴产业的毒瘤。面对互联网诈骗, 广大网民应该
①抵制诱惑, 增强防范意识 ②完善制度, 堵塞安全漏洞
③增长见识, 提高防骗能力 ④加强协作, 打击违法犯罪
A. ①③ B. ①④ C. ②③ D. ②④

24. 近期, 在全国卫生与健康大会上, 习近平总书记强调: 没有全面健康就没有全面小康, 要把人民健康放在优先发展的战略地位, 努力全方位、全周期保障人民健康。这表明
A. 公民维护生命健康权的意识有极大提升
B. 我国公民的生命健康权将得到彻底保障
C. 我国加大对公民生命健康权的保障力度
D. 生命健康权是公民最基本、最重要的权利


25. 一位老奶奶从工厂退休后, 报名到一所老年大学学习, 先后掌握了三门外语。老奶奶在国外旅游时, 流利的外语得到不少外国人的赞扬。对此表述正确的是
①老奶奶积极行使受教育的权利 ②老奶奶所受的教育是义务教育
③老奶奶所受的教育是成人教育 ④老奶奶所受的教育是职业教育
A. ①③ B. ①④ C. ②③ D. ②④

26. 右图漫画《圈套》中消费者可能受到侵犯的权利是



- ①安全权 ②自主选择权
③知情权 ④依法求偿权
A. ①② B. ①③
C. ②③ D. ②④
27. 2017年, 承载过太多青春和梦想、见证过太多欢笑和泪水的高考走到恢复40周年的历史节点。1977年我国正式恢复高等学校招生统一考试制度, 广大学子通过高考改变命运, 成为社会各行各业的骨干。国家恢复高考制度
A. 积极维护了公民广泛的政治权利 B. 标志着我国改革开放的正式启动
C. 满足了公民接受教育的一切需求 D. 为公民的发展提供了公平的机会
28. 当前人民的环保意识日益增强, 废物利用、绿色出行、拒绝过度包装、停用一次性餐具……越来越多的人选择低碳的生活方式。选择低碳生活方式是
①自觉履行法定义务 ②自觉履行道德义务
③追求独特生活方式 ④主动承担社会责任
A. ①② B. ①④ C. ②③ D. ②④
29. 2016年以来, 我国企业“走出去”发展到一个全新阶段, 大量企业开始发力走向国门到海外投资, 在世界范围内配置资源, 一个“全球企业”不断涌现的新时代正在到来。这表明
①我国大力实施对外开放的基本国策 ②我国对外开放的水平得到进一步提高
③我国综合国力已进入发达国家行列 ④“走出去”战略成为我国发展的根本基点
A. ①② B. ②③ C. ②④ D. ③④

30. 对右图漫画内容理解正确的是



- ①治理污染, 迫在眉睫
②保护土地, 综合防治
③环境治理, 成效显著
④守卫家园, 征服自然
A. ①② B. ①④
C. ②③ D. ②④
31. 2016年12月, 我国在酒泉卫星发射中心用长征2号运载火箭将全球二氧化碳监测科学实验卫星发射成功, 这是我国首颗用于监测全球大气二氧化碳含量的科学实验卫星, 主要用于针对“全球变暖”提供科学依据。这表明
①我国科技水平已整体处于世界先进行列 ②我国实行科教兴国战略和保护环境国策
③运用科技手段有助于我们更好的保护环境 ④科技手段能帮助我们解决所有的环境问题
A. ①② B. ①④ C. ②③ D. ②④

32. 党的十八大以来,面对各国综合国力的激烈竞争,党中央明确提出“聚天下英才而用之”的战略目标,加快构建具有全球竞争力的人才制度体系。“回到祖国”正成为海外学子的新风尚,逾八成留学人员学成后选择回国发展,新中国成立以来最大规模的海外留学人才归国潮澎湃而至。这说明
- A. 中国已成为世界上对人才最有吸引力的国家
B. 中国实施人才强国战略吸引人才提升竞争力
C. 有了人才就一定能实现中华民族的伟大复兴
D. 人才强国战略的基础在于引进海外高端人才
33. 2017年3月5日,第十二届全国人民代表大会第五次会议在北京人民大会堂开幕,国务院总理李克强向大会作政府工作报告。关于全国人民代表大会与国务院的关系,下列说法正确的是
- A. 国务院是人民行使当家作主权力的机关
B. 国务院和全国人民代表大会相互监督
C. 全国人民代表大会由国务院产生并对其负责
D. 全国人民代表大会可以对国务院提出质询案
34. 国家信访局于2016年开通了“手机信访平台”,这一举措进一步畅通了百姓向有关部门反映问题的渠道。老百姓通过手机信访有利于
- ①督促政府工作人员依法办事 ②从根本上杜绝违法乱纪现象
③帮助解决老百姓所有的困难 ④公民更好地行使建议权、监督权
- A. ①② B. ①④ C. ②③ D. ②④
35. 千百年来,春节的习俗随时代发展而变化,旅游过年成了近几年的新热门。随着年关的临近,全国各地的旅游线路也“热”了起来,不少旅游网站都推出了新年套餐,人们越来越认可旅游过年的生活方式。这表明
- ①传统的新年风俗必将彻底消失 ②人们的消费选择越来越多样化
③人们的消费观念不断变化发展 ④春节不再是最重要的传统节日
- A. ①② B. ①③ C. ②③ D. ②④

第II卷 (非选择题 共45分)

第II卷共7题。36~38题为思想品德学科试题,共24分;39~42题为历史学科试题,共21分。

36. 阅读下列材料并回答问题。(共11分)

2017年伊始的电视荧屏,少了几分喧嚣,多了几分文化的沉静:第二届《中国诗词大会》引发了一股古典诗词阅读、品评热潮。从《诗经》、楚辞,到汉魏六朝诗,再到唐宋诗词、明清诗词,一直延续到当代名人诗词,时间跨度数千年,显示出文化的力量深深熔铸在民族的生命力、凝聚力和创造力之中。《中国诗词大会》唤起了渗透于每个人心中的诗情情怀,激起了老百姓对中国传统文化的热爱,丰富了人们的文化生活,培育了国人的高雅情趣,进一步生长出文化自信心和民族自豪感。

- (1)我们追寻高雅生活情趣的重要途径是什么?(1分)高雅的生活情趣对我们有何意义?(3分)
- (2)异彩纷呈、绵延数千年的中国古代诗词体现了中华文化的什么特点?(2分)

- (3)《中国诗词大会》的热播启示我们应如何对待中华优秀传统文化?(3分)
- (4)材料反映出中华文化对今天的中国具有怎样深刻的影响?(2分)

37. 阅读下列材料并回答问题。(共7分)

从2013年到2016年,我国连续4年每年减少农村贫困人口超过1000万。2017年“两会”期间,习近平主席指出,到2020年现行标准下农村贫困人口全部脱贫、贫困县全部摘帽,是我们党立下的军令状。这一庄严承诺,再次向世界传递出打赢脱贫攻坚战的坚定决心。

- (1)材料启示我们应如何看待承诺?(2分)
- (2)材料体现了中国特色社会主义的根本原则和到2020年要实现的宏伟目标分别是什么?(2分)
- (3)请说明我国在脱贫攻坚工作上能取得重大成就的根本原因是什么。(3分)

38. 阅读右图漫画并回答问题。(共6分)

- (1)知识产权又称什么权?(1分)为什么要保护知识产权?(2分)



- (2)在保护知识产权方面,政府相关部门应该怎么做?(3分)

39. 时空观念是在特定的时间联系和空间联系中对事物进行观察、分析和思维方式,只有在特定的时空框架当中,才可能对史事有准确的理解。阅读材料,回答问题(共8分)。

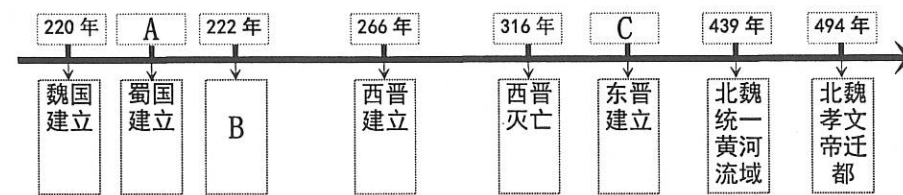
材料一

公元220年,曹丕废掉汉献帝,自称皇帝,国号魏,东汉结束。第二年,刘备在成都称帝,国号汉,史称蜀。222年,孙权称王,国号吴。三国鼎立局面形成。266年司马炎篡夺皇位,建立晋朝,史称“西晋”。280年,西晋灭掉吴国,结束了分裂局面。316年西晋灭亡,第二年,司马睿重建晋朝,史称“东晋”。

公元439年,我国东北地区鲜卑族建立的北魏统一了黄河流域。北魏建立后,定都平城(今山西大同),平城的地理位置不利于北魏对中原广大地区的统治,也不利于鲜卑族学习和接受汉族先进的文化。494年北魏孝文帝进行了迁都。孝文帝迁都之前,进行了政治、经济改革,迁都后进一步实行改革。

——摘编自人教版《中国历史·7年级上册》

(1)根据材料,结合所学知识,将下面某历史时期的年代标尺示意图补充完整(3分)

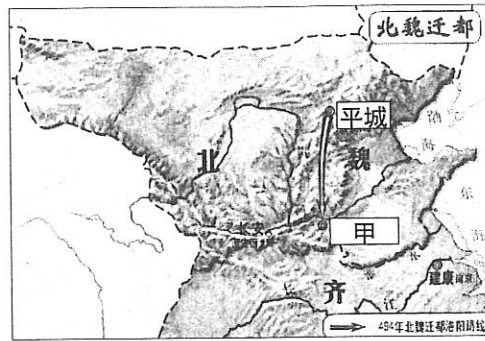


A. _____年; B. 吴国建立, _____局面形成; C. _____年

材料二(见下图, 摘编自中国地图出版社《中国历史地图册·7 年级上册》)

(2)根据材料一、二, 结合所学知识回答:

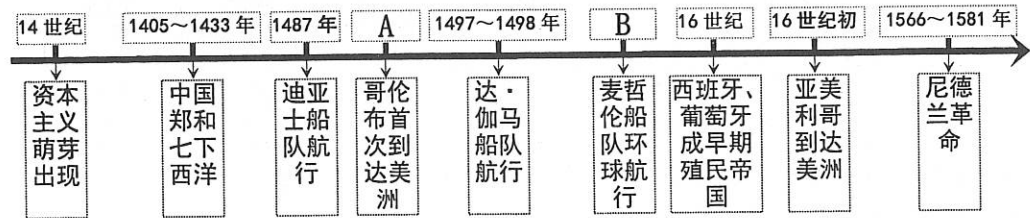
- A. 北魏孝文帝把都城从平城(今山西大同)迁到图中甲地是_____ (写出地名, 1分)
- B. 北魏孝文帝迁都有何历史意义? (1分)



材料三

15 世纪, 欧洲人梦想去东方发财, 开始探寻前往东方的新航路。1487 年, 迪亚士率领船队沿非洲西海岸向南航行, 到达非洲南端好望角。1492 年, 哥伦布受西班牙王室支持, 率船队从西班牙启程, 横渡大西洋, 到达今天美洲的古巴、海地等地。1497~1498 年葡萄牙人达·伽马率船队沿着迪亚士船队的航线, 到达印度等地, 获得无数财富。1519~1522 年麦哲伦率领的船队, 穿越大西洋、太平洋和印度洋, 返回欧洲, 完成了环球航行。16 世纪初, 航海家亚美利哥到达美洲。这块新大陆以他的名字命名。

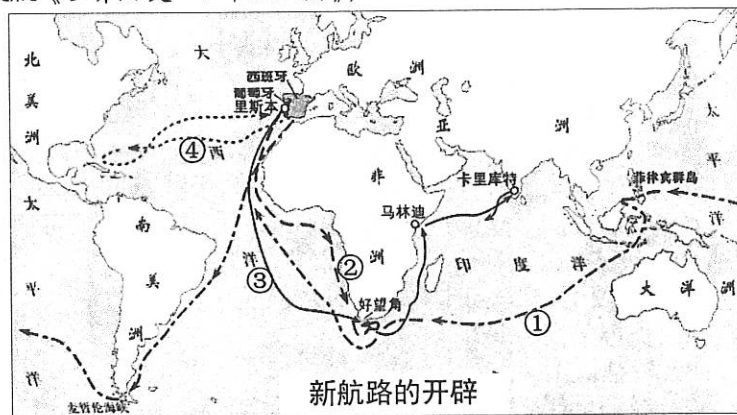
——摘编自人教版《世界历史·9 年级上册》



(3)A. _____ 年; B. _____ 年 (将对应内容分别填入答题卷中; 2分)

材料四 (见下图, 摘编自人教版《世界历史·9 年级上册》)

- (4)根据材料三、四, 结合所学知识回答:
- 图中麦哲伦船队的航行路线是_____ (只填图中所示相应序号, 1分)



40. 民族的反思, 有时是在遭遇到极大的困难中产生的。阅读下列材料, 回答问题(共 7 分)。

材料一

由于中国人闭关自守、骄傲自满, 三次灾难性战争使他们受到了巨大的刺激: 第一次是 1839~1942 年同英国的战争, 第二次是 1856~1858 年同英法的战争, 第三次是 1895 年同日本的战争。在这些战争中所遭受的耻辱性失败, 迫使中国人打开大门, 结束他们对西方的屈尊态度, 重新评价自己的传统文明。

——【美】斯塔夫里阿诺斯《全球通史》

材料二

日本同它之前的中国一样, 这时也被迫遭受西方的入侵。但是它对于这一入侵的反应完全不同于中国……由于日本有向伟大的中国文化世界借用某些东西的悠久传统, 因而, 19 世纪在同样地借用西方世界的东西时, 发生的冲突较少, 痛苦较小。过去, 日本以“日本精神, 中国知识”为口号, 适应了经过挑选的中国文化的某些方面。现在, 日本又以“东方道德, 西方技艺”为口号, 向西方借用了它所盼望的东西。

——【美】斯塔夫里阿诺斯《全球通史》

- (1)材料一中经历了第二次灾难性战争后, 清政府“重新评价自己的传统文明”, 采取了什么自救运动? (1分)这场运动的结果如何? (1分)它对中国近代化有何作用? (2分)
- (2)材料二中提到的日本向中国学习和向西方学习分别指哪两大历史事件? (2分)请你简要说说向西方学习的事件对日本社会发展有何重要影响? (1分)

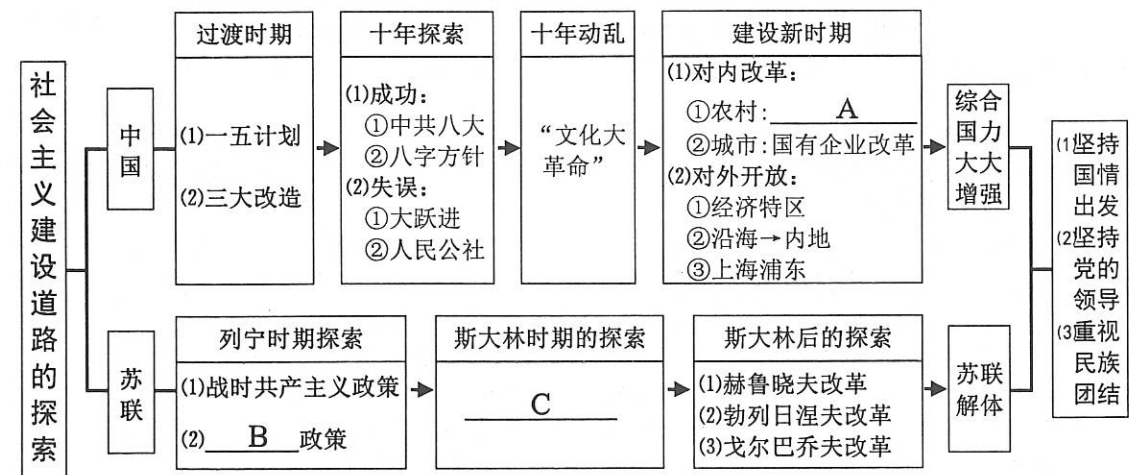
41. 判断分析 (共 3 分)

	史实	结论
A	魏晋南北朝时期, 江南地区得到开发	为我国古代经济重心南移奠定了基础
B	1945 年 8 月 15 日, 日本天皇被迫宣布无条件投降。中国抗日战争经历了 14 年艰难曲折的斗争, 特别是 8 年全民族艰苦卓绝的浴血奋战, 取得了最后的胜利。	中国结束了一百多年来被侵略被奴役的屈辱历史
C	1972 年 2 月, 美国尼克松总统访华并与中国签署中美《联合公报》	两国关系开始走向正常化
D	1919~1920 年协约国分别与德国、奥地利、匈牙利、土耳其、保加利亚签订一系列条约, 构成凡尔赛体系	确立了帝国主义列强在欧洲、西亚、非洲统治的新秩序

(1)上表 A~D 四项中, 史实与结论之间逻辑关系不正确的一项是_____ (1分)

(2)理由分析 (只分析你所选之项) _____ (2分)

42. 构建“学科思维导图”, 有助于形成“关联化知识”、“理解性记忆”、“结构化思考”、“可视化思维”的历史学习能力。下面是某同学根据所学知识制作的有关“社会主义建设道路的探索”学科思维导图。请你帮助他完成未填写的内容(共 3 分)。



A. _____ B. _____ 政策 C. _____ (将对应内容分别填入答题卡中)