

2017 年河南省普通高中招生考试试卷

历史

注意事项:

1. 本试卷共 6 页, 分为选择题和非选择题, 满分 50 分, 考试时间 50 分钟。
2. 开卷考试, 可查阅参考资料, 但应独立答题, 禁止交流资料。
3. 本试卷上不要答题, 请按答题卡上注意事项的要求直接把答案填写在答题卡上。答在试卷上的答案无效。

选择题 (共 20 小题, 20 分)

下列每小题列出的四个选项中, 只有一项是最符合题目要求的。请将正确选项的英文字母代号涂写在答题卡相应位置上。

1. 下列三幅图片共同反映了



洛阳白马寺



洛阳龙门石窟



日本唐招提寺内鉴真塑像

- A. 寺院建筑的中国化
 - B. 佛教文化的传播与发展
 - C. 文化传播者的坚韧
 - D. 雕塑艺术的古朴与精湛
2. 英法从广州向北推进至北京, 俄国从北方边界向南推进, 它们除强调经济特权外, 也强调取得领土。南北两股势力像一把钳子, 紧紧掐住清王朝。这描述的是
 - A. 鸦片战争
 - B. 第二次鸦片战争
 - C. 甲午中日战争
 - D. 八国联军侵华战争
 3. 辛亥革命时期, 孙中山自觉接受了太平天国反清的正面影响, 并吸取其争权夺利导致分裂的反面教训。这从侧面反映了太平天国运动
 - A. 推动了近代的思想解放
 - B. 促成了辛亥革命的发生
 - C. 有益于近代的革命探索
 - D. 激起了国内反清的高潮
 4. 有学者认为, 戊戌变法所传播的西方政治学说和自然科学知识, 将统治中国人几千年的封建思想打开了缺口。这说明戊戌变法
 - A. 起到了思想启蒙作用
 - B. 使西方政治学说深入人心
 - C. 创立了君主立宪政体
 - D. 动摇封建思想的统治地位
 5. 上海的这次会议除遭到暗探和巡捕的骚扰外, 在当时的社会上并没有引起太多的注意。但是, 一个新的革命火种已在沉沉黑夜的中国大地上点燃起来了。这次会议
 - A. 标志着中国共产党的诞生
 - B. 促成了第一次国共合作
 - C. 提出彻底的民主革命纲领
 - D. 推动了北伐战争的胜利



6. 近代以来，中国革命的历史经验告诉我们：“没有共产党，就没有新中国。”中国共产党用 28 年的斗争历程证明了这一重要结论。下面属于这一历程的历史事件是

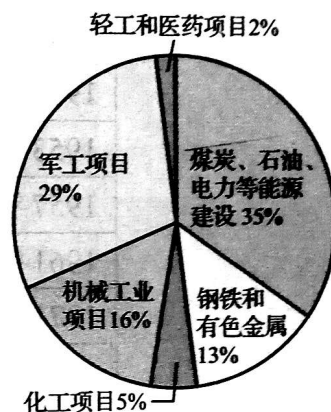
- A. 五四运动 B. 南昌起义 C. 台儿庄战役 D. 西藏和平解放

7. 刘邓大军以锐不可当之势，先后跨越重重障碍，经过 20 多天的艰苦跋涉和激烈战斗，完成了一次无后方依托，以长驱直入插进敌人战略纵深为特点的特殊形式的进攻行动。这一“行动”

- A. 是党的历史上生死攸关的转折点 B. 是抗战中发动的最大规模战役
C. 揭开解放军全国性战略进攻序幕 D. 标志着解放战争取得彻底胜利

8. 右图是“一五”计划期间，我国实施的 150 项重点工程项目比例分布示意图。这表明当时我国

- A. 工业项目的均衡发展
B. 大力发展重工业项目
C. 建立了完整工业体系
D. 完成向工业化的转变



9. 1979 年底，包产到户、包干到户还只是在个别地方尝试，比重仅占全国总农户的 9%。到 1984 年底，比重已增至 95% 以上。包产到户、包干到户迅速发展是由于它

- A. 是农民自己的发明创造 B. 使农民获得土地所有权
C. 使农业收入得到平均分配 D. 适应了农民的生产需求

10. 这是一次肩负重大历史使命，承前启后、继往开来的大会。它明确提出，把建立社会主义市场经济体制作为经济体制改革的目标。这次大会是

- A. 中共十一届三中全会 B. 中共十二大
C. 中共十三大 D. 中共十四大

11. 近年来，华为、中兴、航天科工、中芯国际等一批创新型企业脱颖而出，领跑“中国制造”向“中国智造”加速转变，使中国向“品牌大国”稳步迈进。这主要是由于我国

- A. 大力发展高新技术产业 B. 高等教育迅速发展
C. 努力维护周边地区安全 D. 鼓励发展对外贸易

12. 哥伦布到达美洲后，南美洲的木薯传入非洲和亚洲，土豆传入西欧，地瓜和玉米流入中国；而其它地区的动植物，如小麦、牛、绵羊、猪等，也传入了美洲。材料表明新航路开辟

- A. 促进了洲际间交通的发展 B. 促进了美洲人口的增加
C. 加速了洲际间物种的交流 D. 破坏了美洲的生态平衡

13. “理性”是启蒙运动的核心，是指人自己思考，运用自己的智力去认识、判断和理解事物的能力。“理性”、“自然法”等是当时思想家们常常挂在嘴边的词汇。启蒙思想家热衷“理性”一词是由于

- A. 自然科学的发展 B. 新航路的开辟
C. 人文主义的出现 D. 资本主义兴起



14. 恩格斯指出：对德国来说，拿破仑并不像他的敌人所说的那样，是一个专横跋扈的暴君，他在德国是革命的代表。这里强调了拿破仑
- A. 受到了德国人民的欢迎
 - B. 损害了德国的利益
 - C. 传播了法国革命的精神
 - D. 有利于德国的统一

15. 1908年，美国人亨利·福特开始在汽车生产中引入流水线，把装配一辆汽车所需的时间由12个小时降低为一个半小时，使生产成本大幅度降低，产量很快占到了全世界汽车产量的一半。据此，下面结论正确的是
- A. 科学理论推动技术进步
 - B. 新技术提升企业竞争力
 - C. 垄断组织促进生产发展
 - D. 新技术保证了产品质量

16. 右图是第一次世界大战期间的一幅海报（海报译文：这些妇女也在尽微薄之力，学习制造军火），反映了妇女们走进工厂，代替男人们维持战争工业。这表明
- A. 妇女地位显著提高
 - B. 战争减少就业机会
 - C. 战争波及更多民众
 - D. 民用工业受到影响



17. 没有别的事件能像十月革命那样对现代世界产生如此决定性的影响，它从根本上改变了国际关系格局。1917年以后，世界再也不能同过去一样了。这种不一样主要表现在
- A. 马克思主义开始指导国际工人运动
 - B. 是无产阶级建立政权的第一次尝试
 - C. 打破了帝国主义对社会主义的封锁
 - D. 诞生了世界上第一个社会主义国家

18. 英国学者保罗·肯尼迪在《大国的兴衰》一书中指出：日本培养出的工程师比任何西方国家都多得多（大约比美国培养的多50%）。它还拥有近70万名研发人员，比英国、法国、联邦德国加在一起还多。材料反映了日本
- A. 实行非军事化政策
 - B. 制定适当的经济政策
 - C. 引进最新科技成就
 - D. 注重培养高素质人才

19. 下面是1992年统计的部分跨国公司和国家经济实力对比表，据此可知，跨国公司

公司名称	全球年销售额 (单位:10亿美元)
通用汽车公司	132.4
艾克森石油公司	115.7
壳牌公司	96.6

国家	国内生产总值 (单位:10亿美元)
丹麦	123.5
挪威	112.9
波兰	83.8

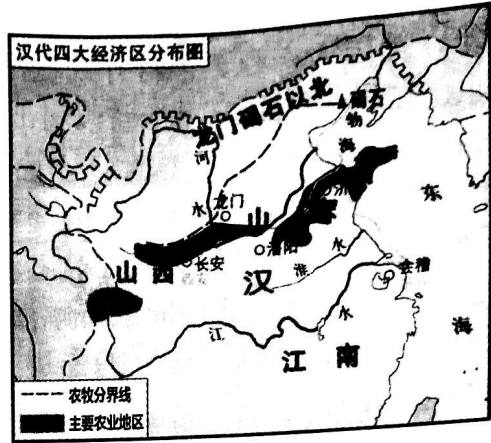
20. 他是一位英国“戏剧全才”，不论是写喜剧还是悲剧，都能深刻理解人类的精神状态。下面属于其作品的是
- A. 《威尼斯商人》
 - B. 《老人与海》
 - C. 《美国的悲剧》
 - D. 《等待戈多》



非选择题（共5小题，30分）

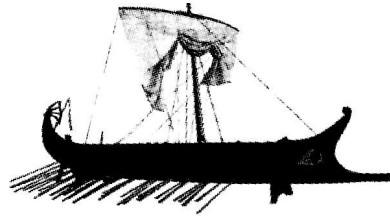
21. (5分) 阅读下列材料，回答问题：

材料一



河南辉县出土的战国铁犁和汉代经济区分布图

材料二



古代雅典的舰船和古希腊城邦分布图

- (1) 材料一和材料二反映的两种古代文明有什么不同？并说明造成这种不同的主要因素。(3分)
- (2) 综上所述，并结合所学知识，指出世界古代文明呈现出的主要特征。面对不同文明，我们应该持怎样的态度？(2分)

22. (7分) 阅读下列材料，回答问题：

材料一 鸦片战争前，中国的交通工具主要是轿子、马车和帆船等。鸦片战争后，轮船、火车等新式交通工具逐渐传入。

材料二 1865年，英商在北京铺设了半公里的窄轨铁路，并试行小火车。这一举动引起京城市民的惊诧和猜疑，视其为怪物。窄轨铁路很快被清政府责令拆除。甲午战争后，清政府修筑了芦汉、沪宁、津浦铁路，形成近代中国第一个筑路高潮。到1911年，全国铁路总长9292千米。

历史试卷 第4页(共6页)



- (1) 材料一中交通工具的动力在鸦片战争前后发生了什么变化？(2分)
- (2) 据材料二，对于火车的引入，近代中国人的态度发生了怎样的转变？结合所学知识，分析这种转变的原因。(4分)
- (3) 结合上述材料，谈谈交通工具在中国近代社会发展中的作用。(1分)

23. (7分) 阅读下列材料，回答问题：

材料一

时间	历史事件
1949年10月	中华人民共和国成立
1950年10月	抗美援朝战争开始
1953年底	周恩来首次提出和平共处五项原则
1957年底	我国第一个五年计划超额完成
1961年	美国发动越南战争
1971年10月	中国恢复联合国合法席位
1972年2月	尼克松访华
1972年9月	中日建交

材料二 进入新时期，中国更加积极地活跃在国际舞台上。1981年以来，我国积极参加国际维和行动。2001年，亚太经合组织领导人非正式会议在上海成功召开。同年，中国加入世界贸易组织。2008年北京奥运会、2010年上海世博会，让全世界的目光聚焦中国。到2011年，中国已同171个国家建交。到2012年，中国已在105个国家和地区开设了350多所孔子学院。2013年，中国提出“一带一路”的发展战略。中国在世界舞台上所扮演的角色，必将对21世纪的世界产生深远的影响。

- (1) 请从材料一中任意选取三个有关联的历史事件，通过设计示意图的形式将其关系展示出来，并说明设计理由。(4分)
- (2) 据材料二，并结合所学知识，概括指出新时期我国在国际舞台上发挥的作用。(2分)
- (3) 综上所述，你得到了哪些关于国家发展对外关系的认识？(1分)

24. (6分) 19世纪60年代，俄国和美国在近代化的道路上，面临着相似的问题，它们却以不同的姿态向前迈出了重要的一步。阅读下列材料，回答问题：

材料一 1860年的美国，人口只有俄国的40%，其城市人口却比俄国多一倍；年产铁83万吨（俄国年产35万吨）；消耗现代燃料的能源是俄国的15倍，铁路长度是俄国的30倍。

材料二 1861年后，俄国外出谋生的农民数量逐渐增多。19世纪90年代末，俄国矿山和铁路等部门的工人人数增加到279.2万人。这些为俄国资本主义的发展提供了必要的条件。




材料三 美国南北战争开始时，南方人口 900 万，其中黑奴占 400 万。《解放黑人奴隶宣言》成为战争的一个重大转折点，等于把南方的数百万黑人奴隶变成了北方的同盟军。这场战争，不仅使黑奴成为自由人，而且维护了国家统一，为美国资本主义的发展进一步扫除了障碍。

- (1) 材料一反映了 1860 年俄国和美国的近代化过程中存在哪些不同？(2 分)
- (2) 据材料二、三，并结合所学知识，19 世纪 60 年代，俄国和美国推进近代化的方式有何不同？不同的方式为资本主义经济的发展提供了哪些相同的条件？(3 分)
- (3) 综上所述，依据俄美的近代化历程，写出你汲取到的关于社会发展的一条经验。(1 分)

25. (5 分) 请对比下面图片反映的历史信息，并结合所学知识，写一篇 80—120 字的小短文。(要求：题目自拟，史实正确，语句通顺，表述完整，体现两幅图片反映内容的比较。)



1947年印巴分治示意图



1997年中英香港政权交接仪式

装订线

