

威海市 2017 年初中学业考试

地 理

注意事项：

1. 本卷共 8 页，共 70 分。考试时间 60 分钟。考试结束后，将答题卡交回。
2. 答题前，务必用 0.5 毫米黑色签字笔将自己的姓名、考生号、座号填写在答题卡规定的位置上。
3. 选择题选出答案后，用 2B 铅笔把答题卡上对应题目的答案标号涂黑；如需改动，用橡皮擦干净后，再选涂其他答案标号。
4. 综合题必须用 0.5 毫米黑色签字笔作答，答案必须写在答题卡指定区域内的横线上，如需改动，先划掉原来的答案，然后再写上新的答案；不能使用涂改液、胶带纸、修正带。

一、选择题 下列各题四选项中，只有一个正确的。每小题选对得 1 分，共 20 分

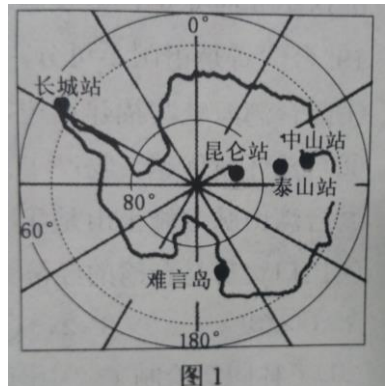
目前，中国第五个南极科考站的选址区域定于难言岛。读图1，完成1~2题。

1. 下列关于难言岛经纬度位置的判读，正确的是

- A. 164° E, 75° S B. 164° W, 75° S
 C. 136° W, 80° S D. 136° E, 80° S

2. 关于南极地区及科考站的叙述，正确的是

- A. 我国所有的南极科考站都位于南极圈以南
 B. 南极科考时间多为每年的 5 月至 10 月
 C. 南极素有“冰雪高原”和“风库”之称
 D. 南极洲年平均降水量极少，淡水资源缺乏



2016 年 11 月 30 日，中国申报的“二十四节气”正式列入联合国教科文组织人类非物

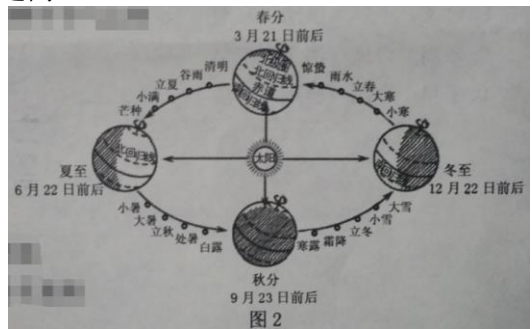
质文化遗产。读图 2 所示的二十四节气图（15 天为一个节气），完成 3~4 题。

3. 申遗成功当日，我国正处于哪两个节气之间

- A. 清明—谷雨
 B. 寒露—霜降
 C. 小雪—大雪
 D. 小寒—大寒

4. 下列描述，错误的是

- A. 春分日和秋分日，太阳直射赤道
 B. 立夏之后，威海才开始变得昼长夜短
 C. 冬至日，北极圈以北出现极夜现象
 D. 地球的公转产生了季节的变化



我国地域广大，地理事物的区域特征十分显著。读图3，完成5~6题。

5. 关于中国地理事物分界线的叙述，正确的是

- A. 甲线是第一阶梯和第二阶梯的分界线
- B. 乙线以西以畜牧业为主，以东以种植业为主
- C. 丙线以西地区人口稠密，以东地区人口稀疏
- D. 丁线是热带季风气候和亚热带季风气候分界线



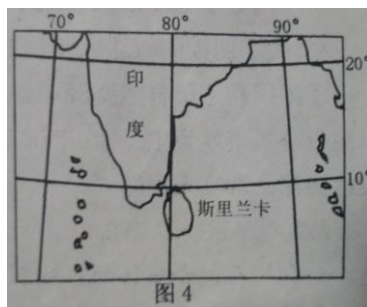
6. 关于图中①②③④四条河流的叙述，正确的是

- A. ①②两河结冰期长，航运价值高
- B. ②③两河流经我国三大阶梯，水能资源丰富
- C. ①④两河春汛的水源来自大气降水
- D. ③④两河支流众多，水流量大

截至2017年5月28日，斯里兰卡因暴雨引发的洪水和滑坡已造成146人死亡，受灾人数达到100多万人。读图4，完成7~8题。

7. 关于斯里兰卡的叙述，正确的是

- A. 位于北半球和西半球
- B. 是亚州南部的一个岛国
- C. 位于中纬度地区
- D. 与印度隔海相望，东临阿拉伯海



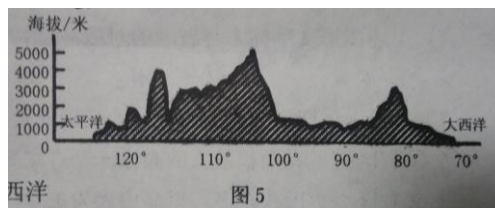
8. 关于斯里兰卡的此次灾害原因分析，错误的是

- A. 以热带季风气候为主，正值雨季，多暴雨
- B. 印度洋的西南季风带来了此次强降水
- C. 纬度低，气温高，降水季节变化小
- D. 此次灾害的发生地位于山区

地形剖面图可直观的反映出一个国家或地区沿某一方向的高低起伏状况。读某国沿36°N所绘的地形剖面图(图5)，完成9~10题。

9. 根据图5所示信息可判断该国是

- A. 俄罗斯
- B. 澳大利亚
- C. 美国
- D. 巴西



10. 下列关于该国的描述，错误的是

- A. 以温带气候为主，降水主要来自于大西洋
- B. 平原广，耕地面积约占世界耕地面积的十分之一
- C. 地势东西高中部低，地形呈南北纵列分布
- D. 河流多发源于西部山区，自西向东注入大西洋

11. 印度有“世界办公室”之称，服务外包产业发展迅速，该产业的特点是

- ①信息技术含量高 ②利润高 ③资源消耗小 ④不需要劳动力

- A. ①②③ B. ②③④ C. ①③④ D. ①②④

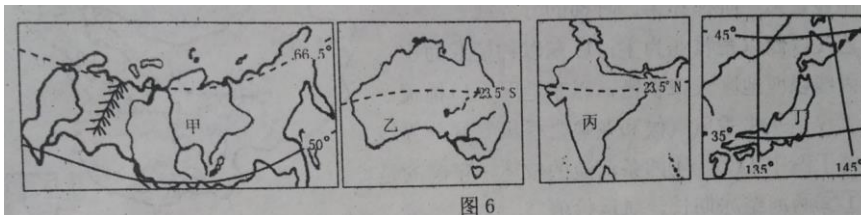


图 6

12. 关于四国自然环境的叙述，错误的是

- A. 甲国地跨亚欧两大洲，是世界面积最大的国家
 B. 乙国独立于南半球的海洋中，被称为“活化石博物馆”、
 C. 丙国所在半岛是世界最大的半岛，地势南北高中间低
 D. 丁国处在亚欧板块和太平洋板块交界地带，多火山地震

13. 关于四国的叙述，正确的是

- ①甲国和丁国自然资源丰富，以海上运输业为主 ②乙国和丙国都被回归线穿过，以热带季风气候为主 ③甲国和丙国都与我国接壤，国土面积大 ④乙国和丁国都是发达国家，濒临太平洋

- A. ①② B. ③④ C. ②③④ D. ①②③④

一位网友结合省区的自然和人文特色，给各省区设计了生动形象的图形文字标志。读图 7 所示的四省区图形文字标志，回答 14~15 题。

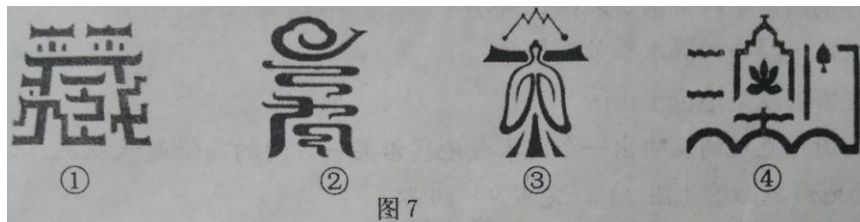


图 7

14. 上述图形文字标志与省区的对应，不恰当的是

- A. ①—西藏 B. ②—云南 C. ③—甘肃 D. ④—澳门

15. 关于上述四省区的地理描述，正确的是

- A. ①省区有世界面积最大的高原——青藏高原
 B. ②省区少数民族众多，以高山族为主
 C. ③省区有我国面积最大的盆地——塔里木盆地
 D. ④省区的经济支柱产业是博彩旅游业

16. “共享单车”（图 8）是一种新兴的出行方式。它们被安放在人口密集区，打开手机扫扫车身二维码，便可获得自行车的骑行使用权。关于“共享单车”的叙述，不恰当的是

- A. 低碳绿色环保
- B. 实现了资源共享
- C. 出行更加方便快捷
- D. 受天气影响小




图 8

读塔里木盆地地形图，完成 17~18 题。

17. 该地的城市和人口集中分布在盆地周围的绿洲，主要影响因素是

- A. 矿产
- B. 水源
- C. 地形
- D. 交通

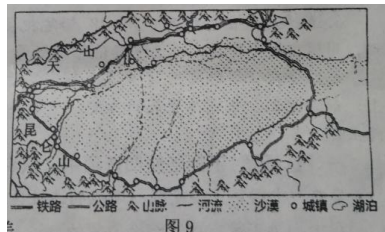


图 9

18. 关于该盆地的说法，错误的是

- A. 位于我国第三阶梯上
- B. 是我国面积最大的盆地
- C. 坎儿井是当地最古老的饮水工程
- D. 这里光照充足，昼夜温差大，瓜果甜美

19. 台湾省是祖国不可分割的神圣领土，关于台湾的叙述，正确的是

- ①隔台湾海峡与福建相望，台湾岛是我国面积最大的岛屿
- ②自然环境优越，物产丰富，桉树是最著名的树种
- ③台湾山脉主峰玉山是我国东部最高峰，日月潭是著名的旅游胜地
- ④出口贸易是台湾的经济命脉，祖国大陆是台湾最大的贸易伙伴

- A. ①②③
- B. ②③④
- C. ①③④
- D. ①②④

20. 王林同学绘制了“中国主要气象灾害分布图”(图 10)，图中甲、乙、丙、丁四图例代表的气象灾害，排列正确的一组是

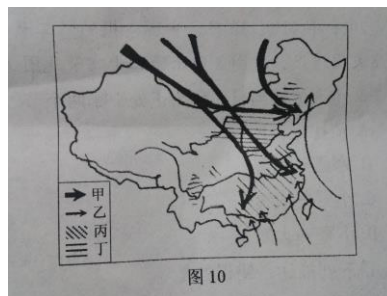


图 10

- A. 寒潮 洪涝 干旱 台风
- B. 台风 干旱 洪涝 寒潮
- C. 寒潮 台风 洪涝 干旱
- D. 干旱 寒潮 台风 洪涝

二、综合题 本大题共 6 小题，共 50 分

21. 日新月异 30 年 厉害了，我的家乡！ 2017 年 6 月 15 日是地级威海市建市 30 周年！30 年来，威海城乡面貌巨变，经济发展迅速，赢得众多享誉中外的称号，如一颗璀璨明珠镶嵌在山东半岛东端。读图表信息，回答问题。（8 分）

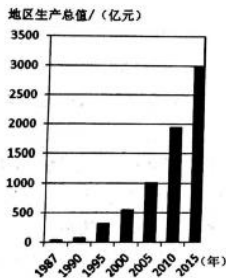


图 11 威海市近年生产总值柱状图

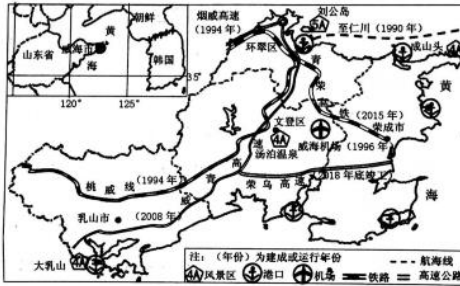


图 12 威海市交通、旅游地图

(1) 地区生产总值是衡量一个地区经济发展水平的重要指标。具图 11 克制威海市经济自 1987 年建地级市以来以_____的趋势在发展，促进威海 30 年来经济发展的有利条件是：_____。

(2) 读图 12 可知威海现有的交通运输方式有：_____。

(3) 威海旅游资源丰富，山、岛、海、泉各有景致，形成富有特色的旅游风景区。图中四景区，需乘船才能到达的是_____风景区，想最早看到海上日出要去风景区。

(4) 某上班族工作日需要往返荣成和威海两地，根据右表信息推荐合适的交通工具：_____，理由是：_____。

交通工具	高速列车	公共汽车	私家轿车
最短用时	20 分钟	约 90 分钟	约 50 分钟
费用	12.5 元	13 元	约 50 元

22. 战略规划布大局 “一带一路” 共繁荣 2017 年 5 月 14 日，“一带一路” 国际合作高峰论坛在北京举行，来自 100 多个国家的嘉宾共聚一堂，商讨合作大计。读图 13，回答问题。（9 分）

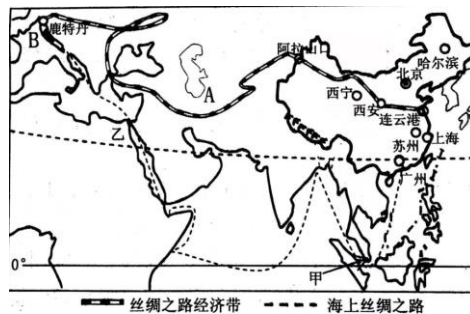


图 13 “一带一路” 路线图

(1) 2 月 1 日某中国商船队沿“海上丝绸之路”开始了商贸之旅：在途经甲地补给物资时，遇到了很多中国游客，该地吸引中国游客的优势条件是：_____。船队行至乙地_____运河补给时，看到当地居民多穿白色长袍，他们大多信仰宗教，当地“水比油贵”的原因是：_____。

(2) 由连云港通往鹿特丹的“新亚欧大陆桥”这一陆上通道，再过北段从连云港到阿拉山口的铁路干线是_____，在开往鹿特丹的图中经过的 A 和 B 两地气候差异显著，它们分别是什么气候？_____，造成这种差异的主要影响因素是什么？_____。

(3)“陆上丝绸之路”的“中欧班列”也从国内出发了：满载藏毯、枸杞、青稞酒的集装箱整装待发，这批货物最有可能从哈尔滨、苏州、西宁三个城市中的哪一城市出发运往欧洲？_____，说出你的判断理由_____。

23. 发挥优势借风行船 明天会更好 撒哈拉以南的非洲各国和南美洲巴西的经济都处于发展阶段，在人文、自然条件和资源方面有着很多异同之处，在发展中可以相互借鉴。读图 14 和图 15，回答下列各题。

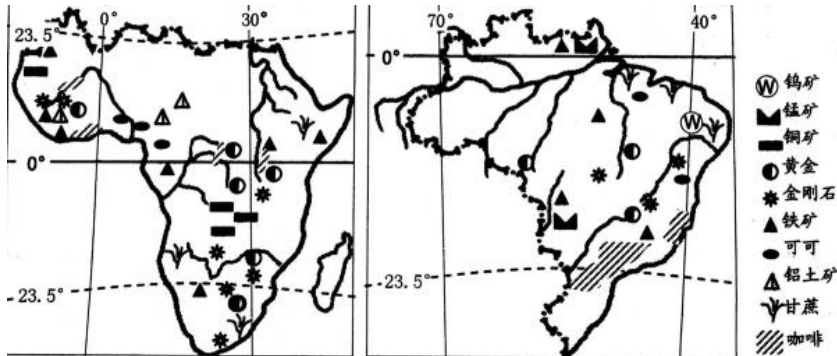


图 14 撒哈拉以南非洲资源分布图

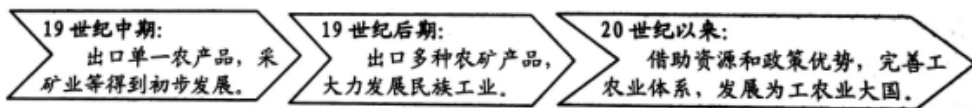
图 15 巴西资源分布图

(1) 撒哈拉以南的非洲是世界上_____人种的故乡，巴西最显著的人口特征是：_____。

(2) 撒哈拉以南的非洲和巴西纬度位置的共同点是_____，两地河流中，_____是世界水量最大的河流，试分析其原因：_____。

(3) 同为经济发展中地区，两地自然资源都很丰富。据图克制两地储量均很丰富的矿产资源有：_____，巴西境内分布着全球约 60% 的热带雨林，被称为“地球之肺”，它产生哪些巨大的环境效益？_____。

(4) 20 世纪以来，在发展中国家中，巴西经济水平提升很快，发展历程如图 16：



巴西经济发展历程可为撒哈拉以南的非洲国家提供的经验是：_____。

24. 明晰区域差异 互联网+ 互补共享 微信现已成为便捷的交流方式，农产供需交流群已成为经销商和农户的网上集市。读图 17 和图 18，回答下列各题。(9 分)

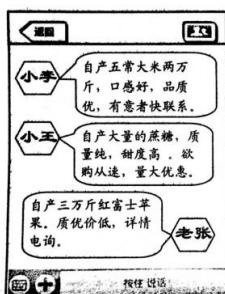


图 17 李、王、张微信群截图



图 18 我国东部地区图

(1) 据图可知老张的家乡位于图中 A、B、C 三地中的_____地，小王的家乡位于_____地。从中国地理分区来看，两人家乡所在分区的地理分界线是_____。

(2) A、B、C 三地区都以种植业为主，耕地类型却存在显著差异，A 地和 B 地的耕地类型分别是_____，两地的油料作物分别是_____，A 地和 C 地的糖料作物分别是_____。

(3) A 地所在地理分区是我国最大的稻米产区，但威海超市里卖的最多的还是 C 地产的五常大米，请分析这里大米口感好、品质优的原因是_____。A 地所在的地理分区中有我国淡水渔业最发达的地区是_____，其有利条件是：_____。

25. 科学决策建新区 北京迎来新发展 深陷人口、资源、环境矛盾和“大城市病”的背景，究竟何去何从？2017 年 4 月 1 日，一个超级重磅消息传来：中共中央决定设立“雄安新区”。读图 19，完成下列各题。（8 分）

(1) 读图可知，雄安新区位于_____省中部，结合图上信息分析中共中央选择雄安新区是因为这里有哪些发展优势？_____。

(2) 雄安新区成立后，部分央企和金融机构将从北京迁至雄安，这对北京和雄安新区意义重大：对北京而言，会缓解北京的哪些压力？_____；对雄安新区而言，部分央企和金融机构的迁入会为其带来哪些好处？_____。

(3) 首都北京的核心职能有哪些？一个具有文化传承价值的著名建筑，往往成为这个城市的符号，下列建筑中成为现代北京的符号的是_____。



图 19 雄安新区位置图



A 故宫



B. 鸟巢



C. 颐和园



D. 八达岭长城

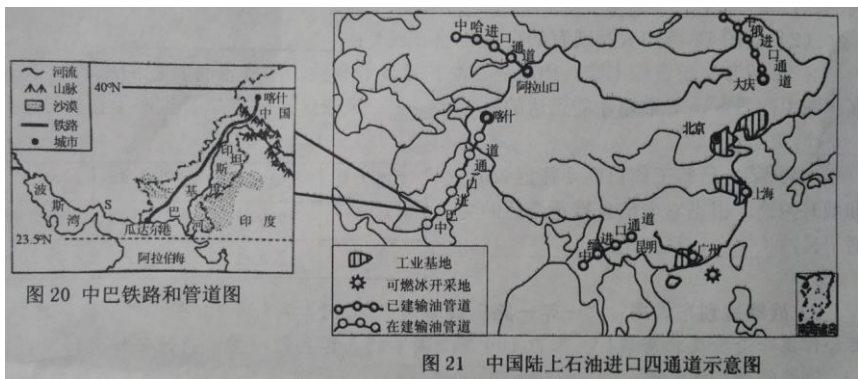
(4) 在现代化经济快速发展的今天，北京的四合院和胡同面临着是拆迁还是保护的严峻问题，你认为该如何做？并说明由。_____。

26. 能源前景无限 厉害了，我的祖国 随着经济实力的不断增强，我国积极开拓能源进口途径，同时也在积极进行新能源的开采。结合图文材料，回答问题。（8 分）

材料一：中国陆上石油进口四通道——2006 年，中哈通道开始投入使用；2011 年，中俄通道投入使用；2017 年 3 月 27 日，中缅通道也开始为中国西南地区输送原油；中巴通道正在修建中。

资料二：5 月 18 日，我国成为世界可燃冰首次成功开采国。可燃冰又称天然气水合物，其燃烧后产生少量二氧化碳和水，污染极小；它还是能源界的能量棒，100 升天然气能让

汽车跑 300 公里，同体积可燃冰能行 5 万公里。



- (1) 中国四条陆上石油进口通道均采用的运输方式是_____，中哈和中巴两条输油线均在中国的_____（省区）卸油。中缅运油线与传统海上运输相比有何优点？_____。
- (2) 根据图 20 所示信息分析，中巴石油运输线路建设中将会遇到哪些困难？_____。
- (3) 根据图 21 所示信息可知，此次可燃冰的开采地位于我国的_____海域，这里与我国_____（工业基地）相隔最近。
- (4) 由材料二可知可燃冰是_____（可再生资源/非可再生资源），与传统能源相比优势显著，它的开采及利用对我国有哪些重要意义？_____。