

绝密★启用前

## 2017 年普通高等学校招生全国统一考试（天津卷）

# 文科综合 地理部分

文科综合共 300 分，考试用时 150 分钟。

地理试卷分为第 I 卷（选择题）和第 II 卷（非选择题）两部分，第 I 卷 1 至 5 页，第 II 卷 6 至 8 页，共 100 分。

答卷前，考生务必将自己的姓名、准考证号填写在答题卡上，并在规定位置粘贴考试用条形码。答卷时，考生务必将答案涂写在答题卡上，答在试卷上的无效。考试结束后，将本试卷和答题卡一并交回。

祝各位考生考试顺利!

## 第 I 卷

### 注意事项:

1. 每题选出答案后，用铅笔将答题卡上对应题目的答案标号涂黑。如需改动，用橡皮擦干净后，再选涂其他答案标号。
2. 本卷共 11 题，每题 4 分，共 44 分。在每题给出的四个选项中，只有一项是最符合题目要求的。

天津既有优美的盘山自然景观，又有海河沿岸的历史遗迹。读图回答 1~2 题。



图 1 盘山景观图

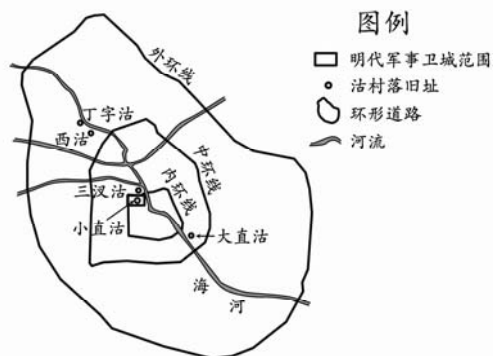


图 2 天津部分“沽”村落旧址示意图

1. 盘山从山顶至山脚分上、中、下三盘，夏季常出现“三盘暮雨”的现象。图 1 中受“三盘暮雨”影响最明显的自然景观是

- A. a                      B. b                      C. c                      D. d

2. 目前,天津部分称“沽”的村落(图2所示)已难寻觅,主要原因是
- A. 城市的扩展
  - B. 河流的改道
  - C. 人口的迁移
  - D. 文化的融合

读图3, 回答第3题。



图3 甘肃省张掖某地区地貌景观

3. 图3地貌景观显示的岩石类型和主要的地质构造最可能是
- A. 岩浆岩、褶皱
  - B. 沉积岩、褶皱
  - C. 岩浆岩、断层
  - D. 沉积岩、断层

读图文材料, 回答4~5题。

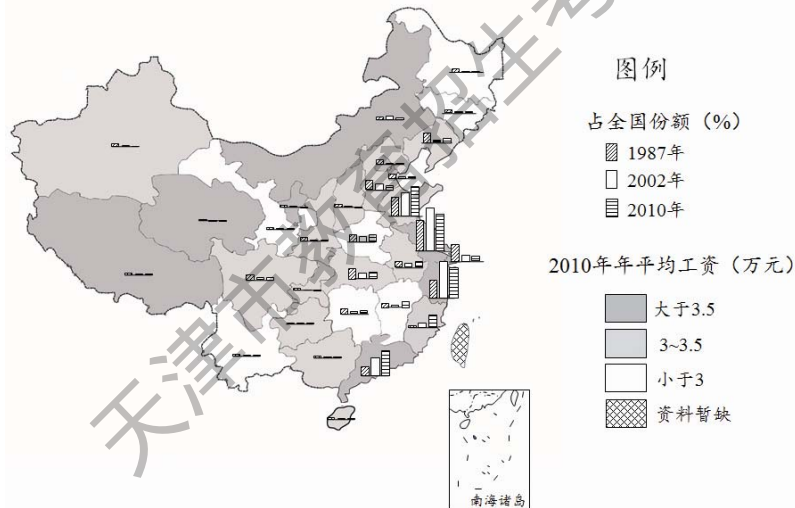


图4

随着全球化发展, 中国纺织服装产品大量进入国际市场。图4显示了我国省级行政区1987~2010年纺织服装业总产值占全国该产业的份额及2010年职工年平均工资。

4. 据图4判断, 下列省级行政区纺织服装业发展变化特征与原因的正确组合是
- A. 京津沪产业份额下降——产业结构优化调整
  - B. 福建产业份额增长快——原有工业基础雄厚
  - C. 苏浙产业份额逐年递增——本地市场需求旺
  - D. 新疆产业份额历年较低——纺织业原料短缺

5. 近年来，东部沿海地区的纺织服装业向河南、江西等地区转移，其最主要影响因素是
- A. 交通运输
  - B. 劳动力成本
  - C. 技术水平
  - D. 距市场远近

我国 A 市某中学（图 5 所示）的旗杆影子在北京时间 14:08 为一天中最短。冬至前后，师生们能在学校升国旗时（北京时间 10:00）看到日出。结合图文材料，回答 6~7 题。

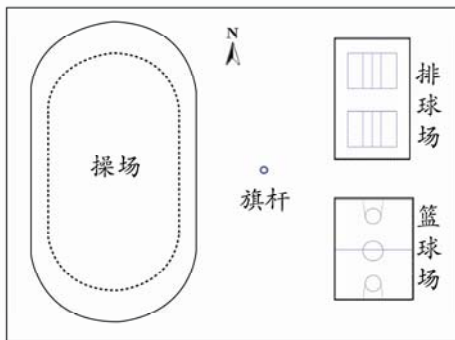


图 5 校园局部平面图

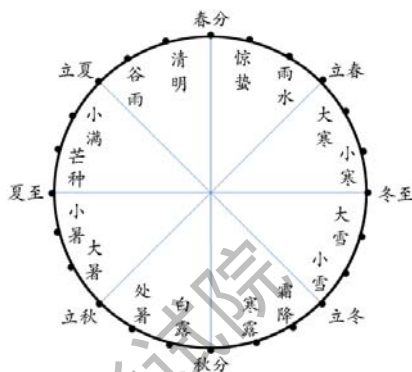


图 6 二十四节气

6. A 市位于天津市（ $39^{\circ}\text{N}$ ， $117^{\circ}\text{E}$ ）的
- A. 东北
  - B. 东南
  - C. 西北
  - D. 西南
- 学生发现，日落时旗杆影子的指向随日期而移动。
7. 下列时段中，日落时杆影的指向由排球场逐渐移向篮球场的是
- A. 惊蛰到立夏
  - B. 立夏到小暑
  - C. 白露到立冬
  - D. 立冬到小寒

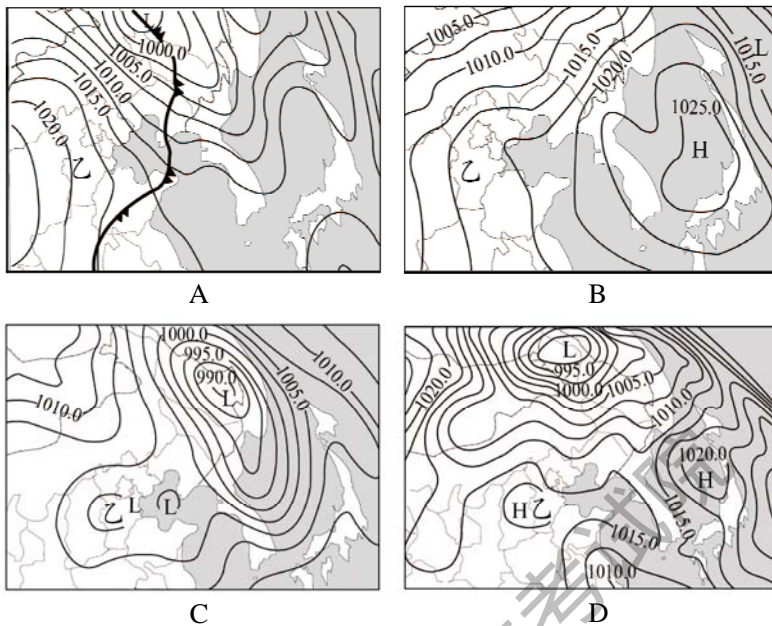
读图文材料，回答 8~9 题。



图 7 乙地某次浮尘天气形成过程示意图

8. 下列描述中，不符合图 7 所示浮尘天气形成过程的是
- A. 乙地气流下沉且低空风速小
  - B. 高层气流带来的沙尘飘落乙地
  - C. 上升气流将乙地的沙尘扬起
  - D. 甲地沙源地的沙尘被大风扬起

9. 下列四幅天气图中的乙地，最可能出现图7所示浮尘天气的是



读图文材料，回答第10题。

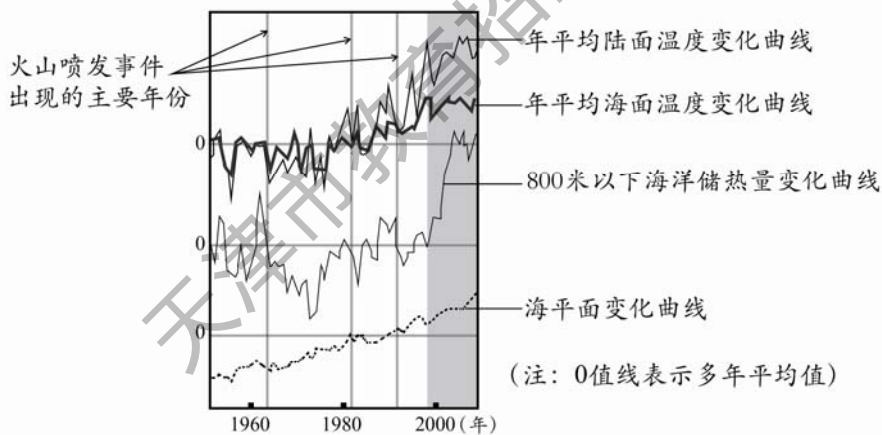


图8 全球变暖相关数据变化趋势示意图

全球变暖导致的环境变化越来越引人关注。地理小组的学生将图8中近十几年来(阴影所示)相关数据的变化趋势与以前进行了比较。

10. 学生经比较后得出的结论，与图8所示信息相符的是

- A. 海洋表面增温趋缓，海平面减速上升
- B. 地球表面增温趋缓，海平面仍在上升
- C. 火山喷发频率增加，海平面加速上升
- D. 800米以下海洋储热量增加，海平面减速上升

读图文材料，回答第 11 题。

冻土是指温度在  $0^{\circ}\text{C}$  或  $0^{\circ}\text{C}$  以下，含有冰的土层或岩层，分为季节冻土和多年冻土。我国科学家考察了全球变暖对青藏高原多年冻土的影响及其产生的后果。

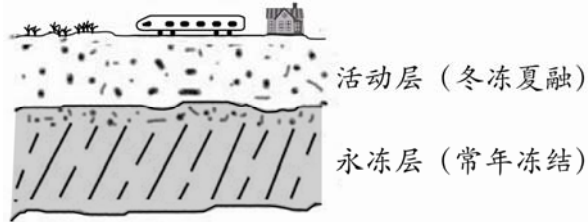


图 9 多年冻土结构示意图

11. 据图文信息判断，下列说法符合事实的是
- A. 活动层厚度变小，补给河流的水源增加
  - B. 活动层厚度变大，春耕播种的时间推迟
  - C. 永冻层上界上升，利于喜温植物的生长
  - D. 永冻层上界下降，建筑基础稳定性变差

2017 年普通高等学校招生全国统一考试（天津卷）

文科综合 地理部分

第 II 卷

注意事项：

1. 用黑色墨水的钢笔或签字笔将答案写在答题卡上。
2. 本卷共 3 题，共 56 分。

12. (21 分) 读图文材料，回答问题。

义乌市是著名的国际商贸之都，目前外来人口约占常住人口的 37%。

(1) 说明义乌市吸引人口迁入的主要社会经济原因。请回答两项。(4 分)

宁波—舟山港是义乌市对外贸易的便捷出海口。

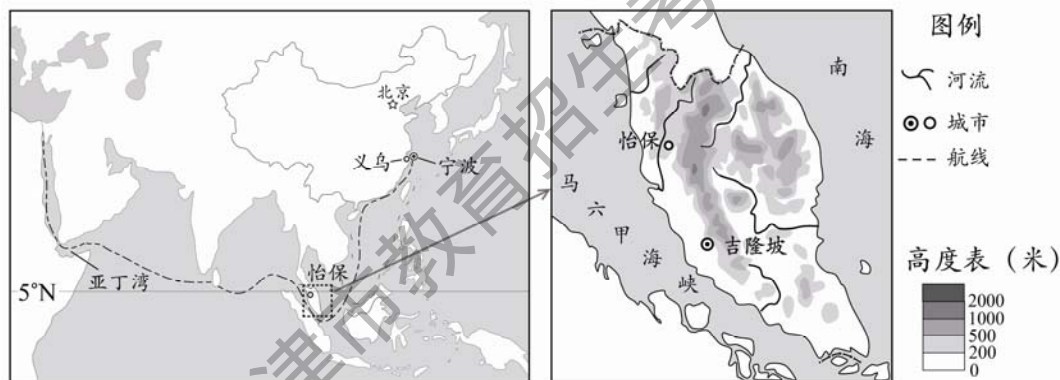


图 10

(2) 从宁波—舟山港出口到亚丁湾的商品，海运公司更愿意选择冬季运输。为什么？请按表格要求回答。(8 分)

	冬季有利于海运的自然环境特点	对海运公司的好处
①		
②		

近年来，由优质咖啡加工的白咖啡深受中国青年喜爱。这种优质咖啡适宜生长在热量充足，光照适度，湿度大，土壤较肥沃的环境，由于易遭受虫害还需人工精心护理。

(3) 怡保地区具备哪些种植优质咖啡的有利区位条件？提取图 10 中信息并说明。(9 分)

13. (20分) 读图文材料, 回答问题。

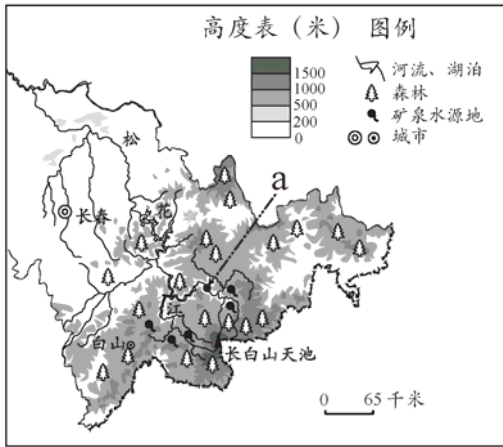


图 11 吉林省部分地区示意图



图 12 白山市主要旅游景点分布示意图

2016 年吉林省内水运交通逐月累计旅客发送量统计表

月份	1	2	3	4	5	6	7	8	9	10	11	12
发送量 (万人)	0.0	0.0	0.0	0.0	15.6	42.5	72.8	110.8	135.1	156.3	156.3	156.3

- (1) 据表中数据推测, 该省境内河流结冰期约为\_\_\_\_个月。(2分)
- (2) 说明图 11 中 a 点上游河段的水文特征。请回答两项(结冰期长除外)。(4分)
- (3) 据下列表格要求, 提取图 12 中信息, 评价白山市发展旅游业的条件。(8分)

	图中相关信息	旅游业发展条件的评价
有利		
不利		

- (4) 图 11 所示地区生产的矿泉水远近闻名, 销量较大。矿泉水生产企业若进一步扩大生产规模, 可能对当地自然环境产生哪些不利影响? (6分)

14. (15分) 读图文材料, 回答问题。

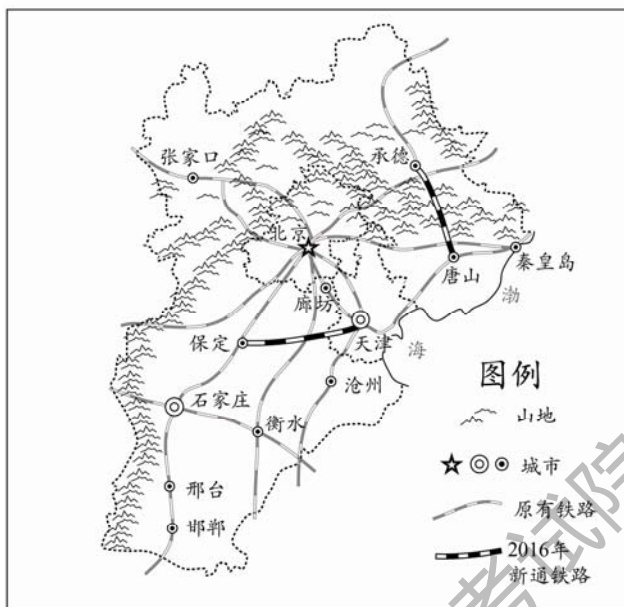


图 13 京津冀地区铁路分布示意图

(1) 结合图 13 所示信息, 说明京、津两城市间铁路线较密集的主要社会经济原因。请回答两项。(6分)

2016 年唐山至承德的铁路正式开通, 使京津冀地区的铁路网进一步完善。

(2) 唐山至承德之间铁路修建的工程难度较大。据图 13 所示信息说明原因。(3分)

(3) 京津冀地区铁路网的完善, 提升了承德市的旅游服务功能, 对承德市社会经济发展有何促进作用? 请回答两项。(6分)