

宁波市 2017 年普通高中保送生招生考试说明

历史与社会 思想品德

《宁波市 2017 年普通高中保送生考试指南（历史与社会·思想品德）》根据中华人民共和国教育部制定的《课程标准》、人民教育出版社出版的《义务教育课程标准实验教科书》以及《宁波市 2017 年初中毕业生学业考试说明》，结合宁波市保送生测试的具体要求制定而成。

历史与社会·思想品德合卷，考试方式为半开卷笔答形式：考试时不允许带教材及参考资料，只允许带一张自己书写的学习整理纸(A4)。满分为 100 分：其中笔答试卷占 90 分，学习整理纸占 10 分。考试时间为 60 分钟。整卷难度 0.75。

一、考试范围和要求

（一）考试范围

1. 《历史与社会》七年级、八年级、九年级部分内容（详见考试目标）。
2. 《思想品德》七年级、八年级、九年级部分内容（详见考试目标）。
3. 地方课程《我与宁波》。
4. 2016 年 11 月至 2017 年 4 月国内外重大时事政治。

（二）考试要求

本考试依据新课程精神，注重与社会实际和学生生活的联系，考查学生对基本知识与技能的掌握情况，特别是运用所学知识分析和解决问题的能力，以培养学生的创新思维及实践能力。考试体现思想性、教育性，突出人文性和综合性，以引导学生树立正确的是非观及价值观。

1. 对考试内容掌握程度的要求分三个层次，从低到高分别为：了解、理解、应用，分别以字母 a、b、c 表示。对三级目标含义的解释如下：

a——了解。指对已学知识的再现或再认。包括再现书本知识；辨别事实依据；描述对象的基本特征等。

b——理解。指在了解基础上对有关概念、原理、观点进行转换、解释或推理。包括把握知识的内在逻辑；与已学知识建立联系；进行分析、推断、区分、扩展；举出实例证明；能收集整理信息等。

c——运用。对已学知识有较全面的把握，能把所学知识应用到新情景、新材料、新问题中，予以分析与解决；能联系社会、生活及本人实际，对事物发表独到的见解；对社会重大事件、热点问题具有正确的价值观、人文观、道德观。

(三) 内容分布

《历史与社会》约占 50%，《思想品德》约占 50%。其中《思想品德》中的法律教育内容约为 50%；国情教育内容约为 50%。《历史与社会》中的七年级内容约为 20%；八年级内容约为 40%；九年级内容约为 40%。

二、考试目标

(一)《思想品德》部分

主题	考试内容	考试要求
法律教育	1. 理解法律的基本特征及其作用，懂得公民在法律面前一律平等的道理	b
	2. 比较一般违法行为与犯罪，认清两者的危害	b
	3. 理解公民的权利与义务的关系，学会正确行使公民权利，自觉履行公民义务	c
	4. 了解法律对未成年人的特殊保护的原因及基本内容	a
	5. 了解法律对公民生命健康权及个人隐私权的保护	a
	6. 学会运用法律保护自己受教育的权利，自觉履行受教育的义务	b
	7. 理解法律保护公民的合法财产所有权和智力成果权	b
	8. 正确理解消费者享有的权利，学会依法维护消费者的合法权益	b
	9. 理解公平对社会稳定与发展的重要性	b
	10. 懂得安全自护、依法自律，学会用法律保护自己	c
国情教育	11. 理解我国正处在社会主义初级阶段及初级阶段的基本路线	b
	12. 理解我国改革开放，感受身边的巨大变化	c
	13. 理解人民代表大会制度是我国人民当家作主的主要形式	b
	14. 理解我国依法治国的基本方略及其重要意义	b
	15. 理解宪法是国家根本大法，自觉维护宪法尊严	b
	16. 理解公民享有的政治权利，并学会依法参与政治生活	c
	17. 理解我国的基本经济制度及其决定因素，理解鼓励、支持、引导非公有制经济发展的重要性	b
	18. 了解我国现阶段的分配制度，懂得我国必须走共同富裕的道路	b
	19. 了解中华民族的传统美德和社会主义核心价值观体系，促进社会主义精神文明建设	b
	20. 了解现代科技的成就和特点，理解实施科教兴国战略的现实意义	c
	21. 知道我国是一个统一的多民族国家，自觉维护国家统一和民族团结	b
22. 了解 21 世纪我国社会发展不同阶段的奋斗目标，自觉承担当代青年的社会责任	b	
时政	2016 年 11 月至 2017 年 4 月	

(二)《历史与社会》部分

主题	考试内容	考试要求
生活的时空	1.知道地图的主要特点和功能,学会从地图中读取简单的地理信息	c
	2.知道世界七大洲、四大洋的名称及分布	a
	3.知道世界三大人种、主要语言、三大宗教的基本概况	a
	4.了解中国省级行政区划单位名称和位置、中国的地理位置	a
	5.分析中国地形、气候的主要特点和主要河流(长江、黄河)的概况	c
	6.通过典型事例说明我国南北自然环境的差异及对人们生产生活的影响	b
	7.结合实例,分析因地制宜对发展区域经济的意义	b
	8.知道获取历史信息的方法与途径,能够有理有据评析历史事件或历史人物	c
社会变迁与文明演进	9.了解百家争鸣对早期中华文明形成的重要作用	a
	10.列出秦代到清代王朝更替的时序	a
	11.比较秦始皇、汉武帝、唐太宗、宋太祖为巩固统治所采取的措施和影响	b
	12.了解丝绸之路概况并分析其重要作用、	b
	13.列举实例,展现宋、元科技成就及对世界的影响	b
	14.概述元、明、清时期巩固和发展统一多民族国家的主要举措	b
	15.描述新航路开辟的过程,理解其意义	b
	16.知道英国革命、美国独立战争、法国大革命建立资本主义制度产生的影响及其历史作用	b
	17.列举近代工业革命的主要发明及对人类发展的影响	a
18.以鸦片战争、甲午战争、八国联军侵华事例,说明中国面临空前的民族危机和社会危机	c	
发展的选择	19.概括洋务运动、戊戌变法的主要史实及影响	b
	20.简述辛亥革命的重要事件和人物,探讨辛亥革命的历史意义	b
	21.简述新文化运动与五四运动的过程与意义	b
	22.知道中国共产党成立及其创建中国革命道路的概况	b
	23.叙述中国抗日战争的重大历程,探讨其胜利的原因和意义	b
	24.知道第二次世界大战进程的重要人物和事件,探讨战争的性质和后果	b
	25.了解解放战争胜利的历程,知道解放战争胜利的意义	b
	26.知道建立新中国和确立社会主义基本制度的重要史实	a
	27.简述新中国成立以来外交政策和外交成就	b
	28.理解中国共产党的十一届三中全会召开的深远意义及对建设中国特色社会主义历程的影响	b
	29.理解“一国两制”的伟大实践及其重大意义	b
	30.了解战后世界格局的变化趋势,理解和平与发展是当今世界的主题	c
	31.了解联合国的成立及其作用	a
	32.说明我国人口、资源、环境问题的现状、影响及解决对策	c
	33.理解人口、资源与环境三者关系,树立可持续发展观	c

宁波市 2017 年普通高中保送生招生综合素质测试

社会 思品例卷

考生须知：

1.全卷分试题卷 I、试题卷 II 和答题卷。有两个大题，29 个小题。满分为 90 分，考试时间为 60 分钟。

2.请将姓名、准考证号分别填写在试题卷和答题卷的规定位置上。

3.答题时，把试题卷 I 的答案在答题卷 I 上对应的选项位置用 2B 铅笔涂黑、涂满。将试题卷 II 答案用黑色字迹钢笔或签字笔书写，答案必须按照题号顺序在答题卷 II 各题目规定区域内作答，做在试题卷上或超出答题区域书写的答案无效。

试 题 卷 I

一、**选择题**(本大题共有 25 小题，共 50 分。每小题 2 分。请选出各题中一个符合题意的正确选项，不选、多选、错选均不给分)

1. 2017 年 4 月 1 日，中共中央、国务院印发通知，决定设立 **▲** 新区。这是继深圳经济特区和上海浦东新区之后又一具有全国意义的新区 ()

- A. 河北通州 B. 河北雄安 C. 新疆喀什 D. 天津滨海

2. 2017 年 3 月 26 日，香港特区第五任行政长官选举揭晓， 当选第五任行政长官 ()

- A. 梁振英 B. 董建华 C. 林郑月娥 D. 曾荫权

3. 1 月 29 日，一名成年男子逃票翻墙进入宁波雅戈尔动物园，之后又越过园内隔离栏，被老虎拖咬，最后经抢救无效死亡。该事件警示我们 ()

- ①要对自己的行为负责，养成良好的自控能力 ②提高遵守规则意识，严格遵守相关规定
③要对自己的生命负责，提高自我保护的意识 ④老虎咬人只是个案，不需要引起警觉

- A. ①②③ B. ①③④ C. ②③④ D. ①②④

4. 今年“3·15”晚会报道，许多电商平台涉嫌在消费者不知情的情况下，销售来自日本核辐射地区的食品。该行为侵犯了消费者的 ()

- ①安全权 ②依法求偿权 ③知情权 ④公平交易权

- A. ①②③ B. ②③④ C. ①②④ D. ①③④

5. 右图网站陷入“走投无路”的困境是因为它 ()

- ①危害社会公德，漠视国家法律
②违反了对未成年人的社会保护
③侵犯了他人的智力成果权
④侵犯了公民受教育的权利

- A. ①②③ B. ①②④
C. ①③④ D. ②③④

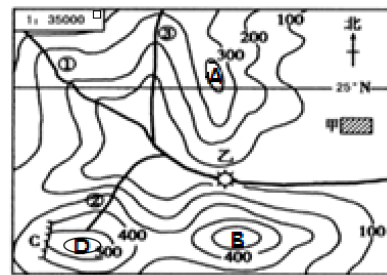


6. 《中国诗词大会》在央视热播，作为一档文化竞技类节目，独辟蹊径，实现了口碑和收视率的双赢。据此，下列说法正确的是 ()

- ①科学文化建设是发展先进文化的中心环节
 - ②中华文化最优秀最值得传播
 - ③此举增强了人们对民族文化的认同感
 - ④这有利于在创新中弘扬中华优秀传统文化
- A. ①② B. ②④ C. ③④ D. ②③

7. 诗词是中华文化之瑰宝。右图中能体现诗句“会当凌绝顶，一览众山小”的地点是 ()

- A. A处
B. B处
C. C处
D. D处




8. 右图（黄河流域示意图）中，关于河口到陕县河段说法正确的是 ()

- A. 流经黄土高原，含沙量大
B. 泥沙沉积，形成地上河
C. 支流众多，处于第一阶梯
D. 水流湍急，穿过宁夏平原



9. 世界上传播范围最广的三大宗教为基督教、伊斯兰教和佛教。它们各有特色的宗教建筑已成为世界文化的宝贵财富。下列属于佛教的典型建筑是 ()



10. 我国历史上曾出现“文景之治”“贞观之治”的盛世局面, 它们的共同特征有 ()

- ①社会比较安定
 - ②民族关系融洽
 - ③经济得到发展
 - ④科举制度完善
- A. ①② B. ①③ C. ②④ D. ③④

11. “器物——制度——思想”是中国人学习西方、救亡图存的三个阶段。其中以“自强”“求富”为旗号开办军工与民用工业的事件是 ()

- A. 新文化运动 B. 戊戌变法 C. 辛亥革命 D. 洋务运动

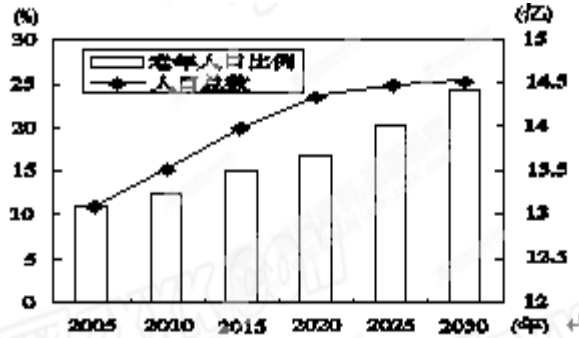
12. “如果战端一开，那就是地无分南北，年无分老幼，皆有守土抗战之责任，皆应抱定牺牲一切之决心。”时任中华民国总统的蒋介石的抗战演讲 ()

- ①发生在 1931 年
 - ②表明我国开始全面抗战
 - ③标志世界反法西斯同盟建立
 - ④说明抗日民族统一战线正式建立
- A. ①② B. ①③ C. ②③ D. ②④

13. “文章合为时而著”，高考作文题也能彰显时代精神。1956 年全国高考作文题是《我生活在幸福的年代里》。这里“幸福的年代”的含义是（ ）

- A. 三大改造完成，社会主义制度建立了 B. 土地改革，使人民有了自己的土地
C. 大跃进运动，使人民丰衣足食 D. 改革开放，使人民走上了致富之路

14. 下图说明未来几十年我国仍将面临的人口问题是（ ）



- ①人口总数过多 ②人口素质不高 ③人口老龄化加剧 ④性别比例失衡

- A. ①② B. ②④ C. ①③ D. ③④

15. 当今 3D 打印技术研发成为又一次世界性科技角逐的焦点，也必将对“中国制造”带来严峻挑战。这警示我国（ ）

- ①必须增强科技创新驱动发展的动力，实现“中国智造” ②必须把科技创新作为现阶段工作中心
③要营造“尊重劳动，尊重知识，尊重创造，尊重人才”的社会氛围 ④要把依靠引进国外先进科技作为自己发展的根本基点

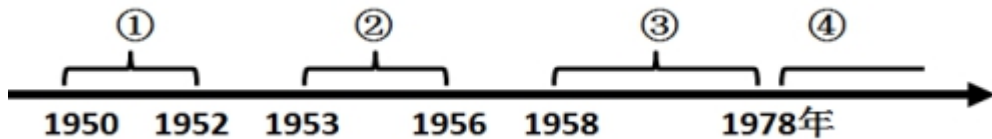
- A. ①③ B. ①④ C. ②③ D. ②④

16. 重要历史人物在人类社会重大变革事件中起着重要作用。毛泽东在中国革命历程中被誉为“人民领袖”，以下可以佐证的史实有

- ①发动南昌起义，创建人民军队 ②进军井冈山，开辟中国特色的革命道路
③中共一大确立毛泽东思想为党的指导思想 ④指挥三大战役和渡江战役，建立新中国

- A. ①② B. ②④ C. ①③ D. ①④

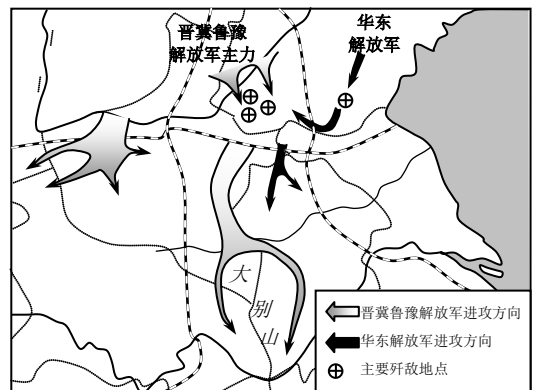
17. 2017 年的中央一号文件继续锁定“三农”工作。新中国成立以来，农业领域的改革成功阶段是（ ）



- A. ①②③ B. ①②④ C. ②③④ D. ①③④

18. 中国共产党自成立以来，在不同时期提出了不同的方针。下列“方针”与右图反映的历史事件相关的是

- A. “打倒军阀，除列强”
B. “工农武装割据”
C. “举行全国性反攻”
D. “消灭国民党军主力”



第 18 题图

19. 《权利法案》、《独立宣言》、《人权宣言》被视为资产阶级革命时期最具代表性的三份人权文献。它们的共同点是 ()
- A. 反对君主专制, 倡导民主平等
B. 推动民主政治的发展
C. 反对殖民压迫, 争取民族独立
D. 强调私有财产神圣不可侵犯
20. 3月22日是“世界水日”, 浙江省举行了剿灭劣V类水誓师大会, 掀起一场全省动员、全民参与、声势浩大的治水大行动。这一行动 ()
- ①符合科学发展观的要求
②有利于建设资源节约型和环境友好型社会
③兴师动众, 阻碍经济发展
④有利于改善水环境, 保障人们生命健康
- A. ①②④
B. ①③④
C. ②③④
D. ①②③
21. 宁波市第十三次党代会确定了宁波未来发展的目标: 加快建设国际港口名城, 努力打造东方文明之都。宁波打造“名城名都”的有利条件有 ()
- ①港口优势和开放优势
②历史文化名城
③雄厚的经济基础
④成功举办G20, 有国际影响力
- A. ①②④
B. ①②③
C. ①③④
D. ②③④
22. 2015年3月1日开始, 《不动产登记暂行条例》正式实施, 全国所有城镇都必须将其纸质房产档案录入电子信息库, 并建立本地的住房信息系统。建立不动产登记制度的积极意义包括
- ①有利于增加不动产权利人收入
②有利于保障不动产权利人的合法财产所有权
③有利于加快实现城乡同步富裕
④有利于平抑虚高的房价, 全面建成小康社会
- A. ①②
B. ①③
C. ②④
D. ③④
23. 2017年1月, 教育部发布了《关于在中小学地方课程教材中全面落实“十四年抗战”概念的函》。下列关于“14年抗战”概念说法正确的是 ()
- ①更全面地反映日本帝国主义的侵华罪行
②是对九一八事变以来全体抗战军民的尊重
③否定了八年全面抗战的历史
④强调了十四年抗战的历史是前后贯通的整体
- A. ①②③
B. ②④③
C. ①②④
D. ①③④
24. 某中学新疆班进行“新疆维吾尔自治区成立60周年”主题班会, 同学们就我国实行民族区域自治制度的意义踊跃发言。以下发言正确的是
- ①消除了新疆与发达地区的差异
②有利于加强各民族的团结
③有利于实现各民族的共同繁荣
④体现了各民族的根本利益
- A. ①②③
B. ①②④
C. ①③④
D. ②③④
25. 2016年11月, 全国人大常委会对《香港特别行政区基本法》第104条作出如右图解释(节选), 这样做有利于
- ①维护国家统一安全, 打击和遏制“港独”势力
②保护港人的根本利益, 保持香港地区稳定
③社会主义依法治国的理念在香港得到落实
④维护香港法治, 保证“一国两制”在香港的实践
- A. ①②③
B. ①②④
C. ①③④
D. ②③④

1. 香港特别行政区政府相关公职人员“就职时必须依法宣誓”。

2. “拥护香港特别行政区基本法, 效忠特别行政区”是法定誓言。

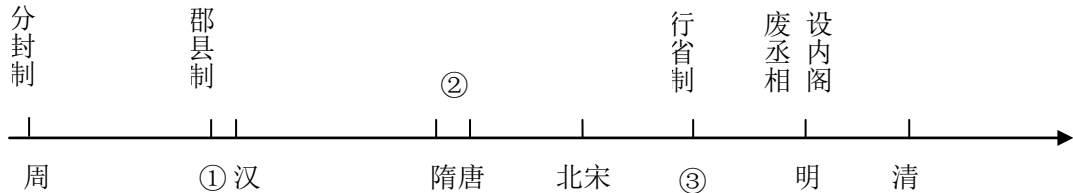
3. 作虚假宣誓或者在宣誓之后从事违反誓言行为的, 依法承担法律责任。

试题卷 II

二、非选择题(本大题有 4 小题, 共 40 分)

26. (10 分) 编年代尺、收集史料都是学习历史的重要方法。阅读有关中国古代政治制度专题的学习资料, 回答问题。

【编年代尺】



【收集史料】

宋太祖与宰相赵普的对话:

太祖: 天下自唐季以来, 数十年间, 帝王凡易八姓, 战斗不息, 生民涂炭, 其故何也?

赵普: 此非他故, 方镇(注: 节度使管辖的地区)太重, 君弱臣强而已。今所以治之, 亦无他奇巧, 惟稍夺其权……, 则天下自安矣。

- (1) 请写出年代尺中①③处分别对应的朝代? (2 分)
- (2) 年代尺中②处对应的是哪一项政治制度? 试分析这一制度的进步意义。(3 分)
- (3) 史料反映了北宋初年面临怎样的严峻问题? 请指出宋太祖对此所采取的政治措施。(3 分)
- (4) 综合以上材料, 概括中国古代政治制度的发展趋势。(2 分)
27. (10 分) 近年来, 不法分子通过电话、网络等方式, 诱使受害人打款或转账的电信诈骗事件频发。阅读材料, 回答问题。



材料二: 2017 年 3 月 15 日, 全国人大表决通过了《中华人民共和国民法总则》, 其中第 111 条规定“自然人的个人信息受法律保护。任何组织和个人需要获取他人个人信息的, 应当依法取得并确保信息安全”。

- (1) 材料一中的不法分子侵犯了公民的哪些权利? 材料二中《民法总则》的出台体现了我国政治生活的哪些观点? (4 分)
- (2) 结合两则材料说明制定“自然人的个人信息受法律保护”条款的必要性。(3 分)
- (3) 为减少电信诈骗事件, 除加强立法外, 还应该采取哪些措施? (3 分)

28. (10分)某学习小组,将“毛泽东在1919—1949年期间革命活动片段”整理成卡片,并开展了关于“毛泽东与中国革命”的探究活动。阅读材料,回答问题。

序号	年份	主要革命活动
①	1919年	响应五四运动,主编《湘江评论》,讴歌十月革命的胜利。
②	1921年	出席在上海召开的中国共产党第一次全国代表大会。
③	1927年	领导湖南湘赣边界秋收起义,并创建井冈山革命根据地。
④	1935年	在遵义会议上,确立了在中共中央和红军中的领导地位。
⑤	1937年	同朱德、周恩来联名发布关于红军接受改编的命令。
⑥	1945年	赴重庆同蒋介石进行和平谈判。
⑦	1949年	在天安门城楼宣布“中华人民共和国成立了”。

(1)上表的革命活动中,标志中国革命新道路开辟的是哪一历史事件?这个中国革命新道路的主要内容指的是?(2分)

(2)为什么要在1937年发布关于“红军接受改编”的命令?这一举措使中国共产党领导的抗日军队担负起怎样的抗战任务和作用?(4分)

(3)1919—1949年毛泽东对中国革命作出的最主要的贡献是什么?并说明理由(4分)

29. (10分)阅读热点新闻,回答问题。

热点新闻回播	热点解读
<p>热点一【聚焦两会】</p> <p>【两会新现象】在2017年两会上,二维码、数字经济、人工智能、5G首次“亮相”政府工作报告。</p> <p>【政府新举措】提出加快新材料、人工智能、5G等技术研发和转化;推进国家智能制造示范区建设……</p>	<p>(1)“两会新现象”体现了我国什么发展战略?“政府新举措”会带来怎样影响?(3分)</p>
<p>热点二【民法总则(草案)出台了】</p> <p>3月15日,第十二届全国人大五次会议表决通过了《中华人民共和国民法总则(草案)》,在此之前,民法总则草案经过全国人大常委会3次审议,在网上3次公开征求社会公众的意见,2次征求全国人大代表的意见,广泛征求全国政协委员、中央有关部门、法律、教育科研机构等部门的意见。</p>	<p>(2)热点二蕴含了哪些教材观点?民法总则(草案)在制定中广泛征求多方意见有何意义?(4分)</p>
<p>热点三【打好蓝天保卫战】</p> <p>在全面建成小康社会的进程中,生态环境在百姓“幸福指数”中的分量不断加重,环境美成为人民幸福生活的新内涵。现阶段,不少地区重污染天气频发,雾霾依旧是百姓的“心肺之患”。</p>	<p>(3)为了有效治理“心肺之患”,我们可以做些什么?(3分)</p>

宁波市 2017 年普通高中保送生招生综合素质测试

社会 思品例卷参考答案及评分标准

一、选择题（本大题共有 25 小题，每小题 2 分，共 50 分）

题号	1	2	3	4	5	6	7	8	9	10	11	12	13	14	15
答案	B	C	A	D	A	C	D	A	D	B	D	D	A	C	A
	16	17	18	19	20	21	22	23	24	25					
	B	B	C	B	A	B	C	C	D	B					

二、非选择题（本大题有 5 小题，共 50 分）

26. (10 分) (1) ①秦； ③元。(2 分)
 (2) ②三省六部制。三省六部制有利于提高行政效率，加强中央集权。(3 分)
 (3) 地方（方镇）势力强大，威胁中央统治（皇权）。(2 分) 解除地方节度使的权力。(1 分)
 (4) 中央集权不断强化（或皇权不断加强）。(2 分)
27. (1) 隐私权、财产所有权。(2 分) 全国人大具有最高立法权；人民代表大会制是我国的根本政治制度（我国是人民当家作主的国家）；我国坚持依法治国的基本方略；等。(2 分)
 (2) 电信诈骗侵害公民合法权益；扰乱社会秩序，不利于社会和谐。该条款的制定能缓解这一现象，维护受害者的合法权益。(3 分)
 (3) 政府：加强监督管理，完善举报制度；企业：合法经营，保护个人信息不泄露；个人：提高自我保护的意识，依法维权；等。(3 分)
28. (1) 创建了井冈山革命根据地。(1 分) 在农村建立根据地，走农村包围城市、武装夺取政权的革命新道路。(1 分)
 (2) 1937 年，七七事变发生，全国性的抗战爆发；国共实现第二次合作，抗日民族统一战线正式形成，国共军队要共同抗日。(2 分) 中共领导的抗日军队担负起敌后战场的作战任务；八路军、新四军深入敌后，广泛发动群众，开展游击战，建立了敌后抗日根据地，把敌人的后方变成抗日前线。(2 分，其他酌情给分)
 (3) 领导中国人民取得新民主主义革命的胜利或建立新中国。(1 分) 实现了国家独立，民族解放，在中国历史上掀开了新的一页。(1 分)
29. (1) 科教兴国战略（创新驱动战略）(1 分)，促进经济发展和社会进步；方便人民生活改变生活方式)(2 分)
 (2) 法律由国家制定或认可；全国人大及其常委会享有最高立法权；人民代表大会制是我国根本政治制度；依法治国是我国治国基本方略；（写出两点即可，2 分）
 意义：有利于立法的科学性、民主性，更好地反映人民的意志 (2 分)
 (3) 政府：加强资金投入；加强立法管理；加强监管等 (1 分)
 企业：技术创新；严格遵守环保条例控制排放等 (1 分)
 个人：有强烈的环保意识；积极行动（或对于发现的破坏环境的违法行为，及时举报）等 (1 分)