

二〇一六年齐齐哈尔市初中学业考试

地理试卷

考生注意：

1. 考试时间 60 分钟
2. 全卷共三道大题，满分 100 分
3. 使用答题卡的考生，请将答案填写在答题卡的指定位置

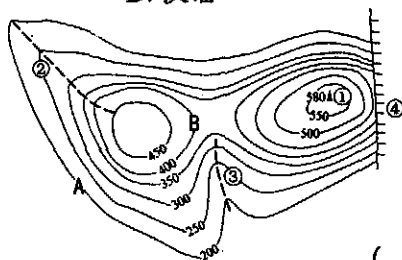
本考场试卷序号
(由监考教师填写)

题号	一	二	三	总分	核分人
得分					

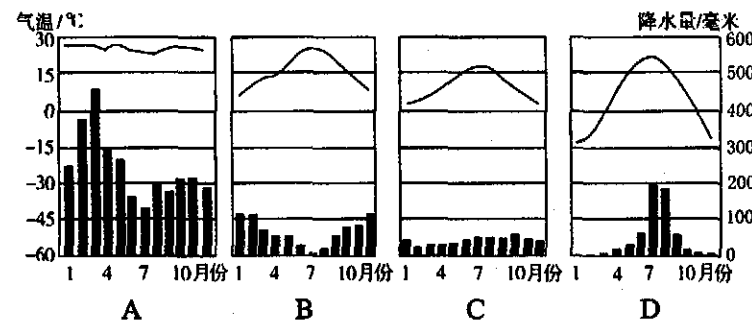
得分	评卷人

一、选择题（每小题只有一个正确选项，每小题 2 分，共 40 分）

1. 地球自转的方向是 ()
A. 自西向东 B. 自东向西 C. 自南向北 D. 自北向南
2. 世界上使用人数最多的语言是 ()
A. 英语 B. 法语 C. 俄语 D. 汉语
3. 右图中表示山脊的是 ()
A. ① B. ② C. ③ D. ④
4. 右图中 A、B 两地相对高度是 ()
A. 150 米 B. 200 米 C. 250 米 D. 300 米
5. 位于苏门答腊岛和马来半岛之间的海峡是 ()
A. 土耳其海峡 B. 霍尔木兹海峡 C. 马六甲海峡 D. 直布罗陀海峡
6. 亚洲地势是 ()
A. 东西高，中部低 B. 西高东低 C. 中部低，四周高 D. 中部高，四周低
7. 俄罗斯四大地形区自西向东依次排列正确的是 ()
A. 东欧平原、西西伯利亚平原、中西伯利亚高原、东西伯利亚山地
B. 西西伯利亚平原、中西伯利亚高原、东西伯利亚山地、东欧平原
C. 东西伯利亚山地、中西伯利亚高原、西西伯利亚平原、东欧平原
D. 中西伯利亚高原、西西伯利亚平原、东欧平原、东西伯利亚山地



8. 世界最大的沙漠是 ()
A. 塔克拉玛干沙漠 B. 阿塔卡马沙漠 C. 维多利亚大沙漠 D. 撒哈拉沙漠
9. 澳大利亚被称为 ()
A. 世界加油站 B. 世界办公室 C. 世界化石博物馆 D. 世界工厂
10. 关于美国叙述不正确的是 ()
A. 跨寒、温、热三带 B. 农业地区专业化 C. 世界最发达的工业国家 D. 首都纽约
11. 我国在南极地区建立的第一个科学考察站是 ()
A. 黄河站 B. 昆仑站 C. 长城站 D. 中山站
12. 我国民族最多的省级行政区域是 ()
A. 云南省 B. 广西壮族自治区 C. 河南省 D. 广东省
13. 黑龙江省冬季漫长，海南岛终年如夏，影响两地气候不同的主要因素是 ()
A. 海陆位置 B. 纬度位置 C. 地形因素 D. 人为因素
14. 我国常见的自然灾害有气象灾害和地质灾害等，下列属于地质灾害的是 ()
A. 干旱 B. 寒潮 C. 台风 D. 地震
15. 下列位于长江上的水利工程是 ()
A. 龙羊峡水电站 B. 三门峡水利枢纽 C. 三峡水利枢纽 D. 小浪底水利枢纽
16. 如果把 2 吨活鱼从北京郊区的水库运往北京城区，应选择运输方式 ()
A. 水路运输 B. 铁路运输 C. 公路运输 D. 航空运输
17. 每年三月全国人大代表汇聚北京共商国是，这说明北京具有的城市职能是 ()
A. 政治中心 B. 经济中心 C. 文化中心 D. 国际交往中心
18. 港澳地区与珠江三角洲地区的合作模式是 ()
A. 前厂后店 B. 前店后厂 C. 南北对话 D. 南南合作
19. 台湾最大的贸易伙伴是 ()
A. 祖国大陆 B. 美国 C. 韩国 D. 菲律宾
20. 黑龙江省的气候类型是温带季风气候，表示该气候类型的图是 ()

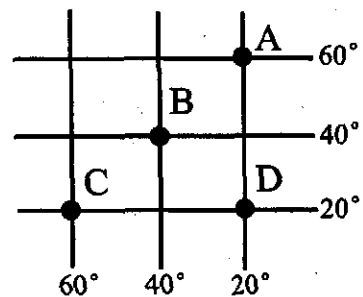


得分	评卷人

二、读图分析题 (每空1分, 共50分)

21. 读经纬网示意图, 回答下列问题 (4分)

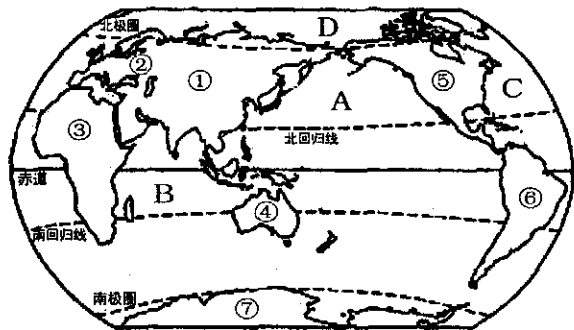
- (1) A点的经度是_____。
- (2) B点位于东西半球中的_____半球。
- (3) C点位于五带中的_____带。
- (4) D点位于B点的_____方向。



22. 读世界海陆分布图, 回答下列问题 (6分)

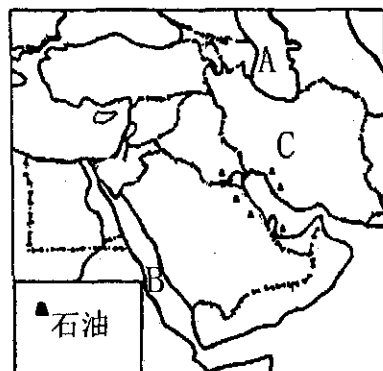
(1) —(4) 题填字母或序号

- (1) 世界面积最小的洲是_____，世界面积最大的洋是_____。
- (2) 被亚洲、欧洲、北美洲包围的大洋是_____。
- (3) 跨经度最广的大洲是_____。
- (4) 世界上发达国家最集中的地区分布在_____西部。
- (5) 亚洲和非洲的分界线是_____。



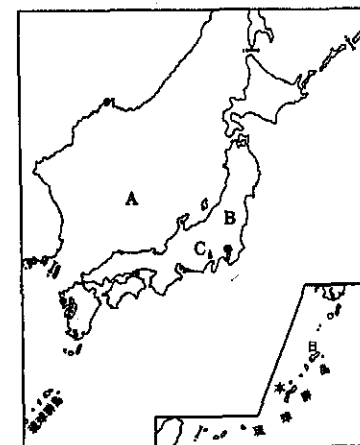
23. 读图, 回答下列问题 (7分)

- (1) 写出下列地理事物的名称:
A是_____; B是_____。
- (2) 该地区石油资源丰富, 主要分布在_____。其生产的石油主要运往东亚、_____、北美洲。产油国C是_____。
- (3) 该地区_____资源匮乏。
- (4) 该地区大多数居民是阿拉伯人, 信仰_____教。



24. 读日本图, 回答下列问题 (6分)

- (1) 写出图中字母代表的地理事物名称:
海洋: A是_____; 岛屿: B是_____;
火山: C是_____。
- (2) 日本多火山、地震的原因是位于太平洋板块和_____板块交界处。
- (3) 日本工业集中分布在太平洋沿岸和_____沿岸。
- (4) 日本文化是_____的典型。



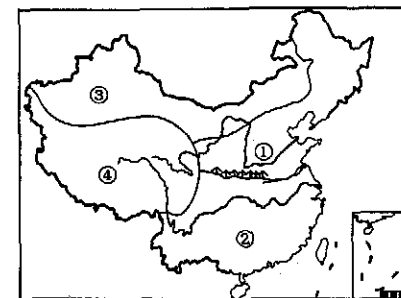
25. 读中国地图, 回答下列问题 (8分)

- (1) 山脉A是_____，它西侧的地形区B是_____，该地形区少数民族的传统节日是_____。(最后一空选填序号)
①雪顿节 ②那达慕节 ③元宵节 ④泼水节
- (2) 河流C是_____，注入的海D是_____。
- (3) 盆地E是_____，河流F为我国最大的内流河_____。
- (4) 我国的邻国G是_____。



26. 读我国四大地理区域图, 回答下列问题 (6分)

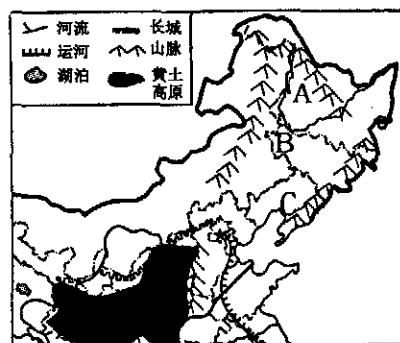
- (1) ②是_____地区。
- (2) ①和②的分界线是_____ (山脉) 和_____ (河流)。
- (3) ③典型的自然环境特征是_____。
- (4) ④位于我国第_____级阶梯, 该区被称为“高原之舟”的动物是_____。



装订线内不要答题

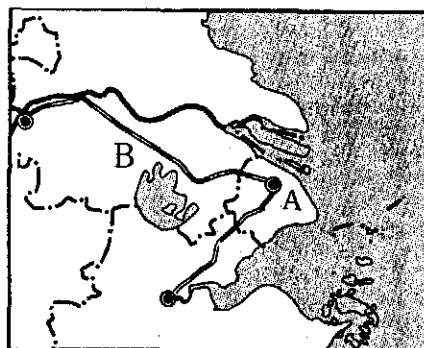
27. 读我国北方地区图，回答下列问题（8分）

- (1) A是_____省。
- (2) B是我国最大的平原_____，因有肥沃的黑色土壤，被称为“黑土地”。
- (3) B地形区耕地类型是_____；
作物熟制是_____；
主要的粮食作物是_____。
- (4) C是我国四大工业基地中的_____。
- (5) 图中阴影地区地表沟壑纵横，造成这种状况的主要原因是_____，
请写出一种治理措施：_____。



28. 读长江三角洲地区图，回答下列问题（5分）

- (1) 城市A_____是我国最大的城市，
其简称是_____。
- (2) 长江三角洲地势低平，河湖密布，
被称为“_____”。
- (3) 北京的小刚同学暑假到该地区旅游，
他选择的铁路线B是_____。
- (4) 小刚到达该地区后，看不到的旅游景点是_____。（选填序号）
①苏州园林 ②杭州西湖 ③秦始皇兵马俑 ④周庄



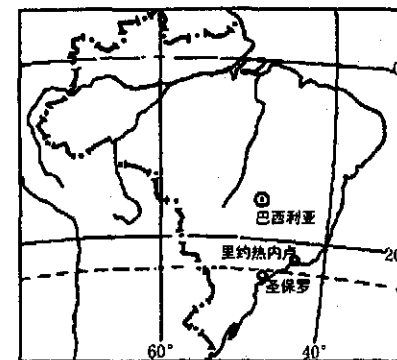

得分	评卷人

三、材料分析题（每空1分，共10分）

29. 阅读下面的材料，回答问题。（5分）

材料一：第31届夏季奥林匹克运动会将于2016年8月5日—21日在巴西的里约热内卢举行。

材料二：



- (1) 里约热内卢位于_____。（填国家名称）
- (2) 该国东临_____洋。
- (3) 该国最显著的人口特征是_____。人们最喜欢的一项体育运动是_____。
- (4) 针对生态环境出现的主要问题，该国政府采取各种措施，加强对_____的保护。

30. 阅读下面的材料，回答问题。（5分）

材料一：我国水资源从时间分配看，夏秋季节大部分地区降水丰沛，河流处于丰水期，水资源较为丰富，但容易造成洪涝灾害；冬春季节降水少，河流处于枯水期，北方一些河流甚至干涸见底，水资源相对不足。兴建水库可以在河流洪水期蓄水、枯水期放水，从而调节河流流量的时间变化。

材料二：



- (1) 水资源是_____（选填“可再生”或“非可再生”）资源。
- (2) 我国降水_____季节多。
- (3) 我国解决水资源时间分布不均的措施是_____。
- (4) 漫画反映水资源利用中存在的问题是_____。
- (5) 在日常生活中，你是怎样节约用水的？

答：_____。

二〇一六年齐齐哈尔市初中学业考试 地理试题参考答案及评分说明

一、选择题（每小题只有一个正确选项，每小题2分，共40分）

1	2	3	4	5	6	7	8	9	10
A	D	B	B	C	D	A	D	C	D
11	12	13	14	15	16	17	18	19	20
C	A	B	D	C	C	A	B	A	D

二、读图分析题（每空1分，共50分）

21. 读经纬网示意图，回答下列问题（4分）

- (1) 20° W 或西经 20° (2) 西 (3) 热 (4) 东南

22. 读世界海陆分布图，回答下列问题（6分）

- (1) ④ A (2) D (3) ⑦ (4) ② (5) 苏伊士运河

23. 读图，回答下列问题（7分）

- (1) 里海 红海 (2) 波斯湾及其沿岸 西欧或欧洲西部 伊朗
(3) 水 (4) 伊斯兰

24. 读日本图，回答下列问题（6分）

- (1) 日本海 本州岛 富士山 (2) 亚欧
(3) 濑户内海 (4) 东西方兼容或东西方融合

25. 读中国地图，回答下列问题（8分）

- (1) 大兴安岭 内蒙古高原 ② (2) 黄河 渤海
(3) 塔里木盆地 塔里木河 (4) 俄罗斯

26. 读我国四大地理区域图，回答下列问题（6分）

- (1) 南方 (2) 秦岭 淮河 (3) 干旱 (4) 一 牦牛

27. 读我国北方地区图，回答下列问题（8分）

- (1) 黑龙江 (2) 东北平原 (3) 旱地 一年一熟 小麦
(4) 辽中南 辽中南工业基地 辽中南地区 (答任何一个都正确)

- (5) 水土流失 植树造林、建梯田、修挡土坝、陡坡地退耕还林还草、过度放牧的地方
减少放牧的牲畜数量等。（措施，写出一点合理即可给分）

28. 读长江三角洲地区图，回答下列问题（5分）

- (1) 上海 沪 (2) 鱼米之乡 (3) 京沪线 (4) ③

三、材料分析题（每空1分，共10分）

29. 阅读下面的材料，回答问题（5分）

- (1) 巴西 (2) 大西 (3) 混血种人数量多 足球 (4) 热带雨林或雨林

30. 阅读下面的材料，回答问题（5分）

- (1) 可再生 (2) 夏秋 (3) 兴建水库 (4) 浪费

- (5) 一水多用（淘米水浇花、洗衣水擦地等）

使用节水器具

用完水后及时关闭水龙头等

（写出一点，合理即可给分）