

海南省 2016 年初中毕业生学业水平考试

历史科试题

(考试时间: 60 分钟 满分: 100 分)

一、选择题 (本大题有 20 小题, 每小题四个选项中只有一项正确, 每小题 3 分, 共 60 分)

1. 商朝是我国青铜文化的灿烂时期。下列能够代表这一时期青铜工艺成就的是



A. 司母戊鼎



B. 鱼纹彩陶盆



C. 甲骨文



D. 冰裂纹瓷器

2. 秦统一后, 围绕着在地方采取何种统治方式的问题, 君臣之间发生过激烈争论。最终, 秦始皇在地方推行

A. 分封制

B. 郡县制

C. 科举制

D. 行省制

3. 赤壁之战是一场以少胜多的战役, 为三国鼎立局面的形成奠定了基础。这一战役的交战双方是曹军与

A. 匈奴大军

B. 孙刘联军

C. 前秦军队

D. 东晋军队

4. “开元初, 四方丰稔 (丰收), 城镇商铺林立, 客商如云。” 直接反映了唐玄宗统治前期

A. 经济发展

B. 吏治清明

C. 人才济济

D. 生活奢侈

5. 北宋时, 为了适应大宗买卖的需要, 方便商人交易, 四川地区使用了纸币

A. 圆形方孔钱

B. 五铢钱

C. 开元通宝

D. 交子

6. 115 年前, 在冒着硝烟的大炮下, 清政府与西方列强签订了一个丧权辱国的条约, 使中国完全沦为半殖民地半封建社会。该条约是

A. 《南京条约》

B. 《北京条约》

C. 《马关条约》

D. 《辛丑条约》

7. 邮票是国家的一张名片, 承载着历史的记忆。下面这组邮票纪念的是



七七战火



台儿庄大捷



百团大捷



敌后游击战

A. 北伐战争

B. 抗日战争

C. 解放战争

D. 抗美援朝战争


8. 张謇说: “天之生人也, 与草木无异。若遗留一二有用事业, 与草木同生, 即不与草木同腐朽。” 张謇创办的“有用事业”是

A. 安庆内军械所

B. 汉阳铁厂

C. 轮船招商局

D. 大生纱厂

9. 1956年社会主义制度在我国基本建立，其主要依据是
- A. 抗美援朝战争的胜利
B. “一五”计划的实施
C. 公有制经济占主导地位
D. “大跃进”运动的开展
10. 《我的父亲焦裕禄》一书以女儿焦守云的视角回望了父亲的一生。书中，焦裕禄的事迹应该包括
- A. 建设大庆油田
B. 研制原子弹
C. 治理兰考“三害”
D. 培育杂交水稻
11. 爱护文物，保护遗存，是为了尊重历史，传承文明。在海南现存的古城中，保存最完整、极具代表性的是
- A. 崖州古城
B. 儋州古城
C. 定安古城
D. 文昌孔庙
12. 1931年，一支飒爽英姿的女兵战斗连队——红色娘子军在万泉河畔建立。她们敢于奋斗，不怕牺牲，曾经参加
- A. 沙帽岭伏击战
B. 潭口阻击战
C. 那大战役
D. 海南岛战役
13. “公民大会是最高权力机构，公民一律平等，有权参与国家管理。除十将军外，国家各级官职向所有公民开放，通过选举产生。”该材料叙述的是雅典
- A. 种姓制度
B. 等级制度
C. 民主政治
D. 君主专制
14. 右图是麦加大清真寺，每天都有不少穆斯林面朝寺中克尔白神庙的方向朝拜，他们信仰的是
- A. 佛教
B. 道教
C. 伊斯兰教
D. 基督教
- 
15. 近期，意大利政府展示了大航海家哥伦布写于1493年的一封信件的原件，里面详述了发现“新大陆”的细节。“新大陆”指
- A. 非洲
B. 美洲
C. 亚洲
D. 欧洲
16. 海南西环高铁于去年底正式开通运营，全球首条环岛高速铁路诞生了。铁路最早出现在
- A. 蒸汽时代
B. 电气时代
C. 信息时代
D. 知识经济时代
17. 今年5月底，法德两国领导人共同纪念凡尔登战役爆发100周年，缅怀当年阵亡的将士，呼吁欧洲团结。凡尔登战役发生于
- A. 1914年
B. 1915年
C. 1916年
D. 1917年
18. 右框所示的一系列事件反映的主题是
- A. 亚洲独立与振兴
B. 欧洲复兴之路
C. 非洲独立浪潮
D. 拉美独立运动
- 1952年，埃及爆发反帝反封建革命
1960年，非洲有17个国家获得独立
1990年，纳米比亚独立
19. 二战后，日本教育经费在政府财政预算中所占比重超过20%，名列资本主义世界各国之首。90年代有1/3以上的成年人受过大学教育。这说明日本
- A. 大力扶植私人企业
B. 引进先进的生产技术
C. 接受美国的经济援助
D. 十分重视教育
20. 某同学正在制作20世纪以来国际政治格局演变示意图，图中空格处应填写的演变趋势是
- 凡尔赛—华盛顿体系 → 两极格局 →
- A. 集团化
B. 区域化
C. 全球化
D. 多极化

二、材料解析题（本大题有2小题，21小题12分，22小题15分，共27分）

21. 阅读下列材料：

材料一



图1 元朝疆域图

1727年，清朝开始设立驻藏大臣，作为中央政府的代表长驻西藏，同达赖、班禅共同管理西藏。乾隆皇帝制定“金瓶掣签”制度，规定活佛转世的人选，必须用中央颁发的金奔巴瓶抽签决定。

——北师大版《中国历史》七年级下册教材

图2

材料二 1951年5月23日，中央人民政府和西藏地方人民政府签订了《关于和平解放西藏办法的协议》，西藏获得和平解放。1959年春，中央人民政府果断平叛，并领导西藏人民进行民主改革，被解放了的百万农奴迸发出无比的生产热情。1965年9月，西藏自治区及其人民政府正式宣告成立。此后，西藏的经济发展和进步日新月异。2015年底，西藏自治区全区生产总值达到1026.39亿元，增长11%，增速位居全国前列。

——中国网

请回答：

- (1) 观察图1，“宣政院辖地”指的是今天哪个地区？（2分）根据图2，概括清朝管辖西藏的措施。（2分）
- (2) 今年是西藏和平解放多少周年？（1分）依据材料二，归纳西藏经济发展和进步的原因。（3分）
- (3) 以上两则材料共同说明了什么？（4分）

22. 阅读下列材料：

材料一 人人生而平等，造物者赋予他们若干不可剥夺的权利，其中包括生命权、自由权和追求幸福的权利。为了保障这些权利，人类才在他们之间建立政府，而政府之正当权力，是经被治理者的同意而产生的……这些联合一致的殖民地从此是自由独立的国家……它们和大不列颠国家之间的一切政治关系从此全部断绝。

——《独立宣言》（摘自钱满素《美国文明读本》）

材料二 在上述各州及区域内（叛乱地区），所有被视作奴隶的人立获自由并于以后永保自由；合众国政府包括陆海军当局将承认和维护他们的自由。

——《解放黑人奴隶宣言》（摘自钱满素《美国文明读本》）

材料三 （1933年，罗斯福政府颁布某法案）根据这个法案，各工业企业制定本行业的公平经营规章，确定各企业的生产规模、价格水平、市场分配。还规定了工人的一些基本权利，如规定了每周的最高工作时数和最低工资额，工人有权组织工会等。

——中华书局版《世界历史》九年级下册教材

请回答：

- (1) 《独立宣言》颁布于哪一年？（2分）根据材料一，简要概括《独立宣言》的内容。（2分）
- (2) 结合材料二与所学知识，判断下列说法是否正确。正确的打（√），错误的打（×）。（3分）
 - ① 林肯政府颁布了《解放黑人奴隶宣言》。（ ）
 - ② 自1863年元旦起，美国所有的黑人奴隶获得自由和解放。（ ）
 - ③ 《解放黑人奴隶宣言》的颁布，表明美国联邦政府终止奴隶制的决心。（ ）

(3) 材料三中的“法案”指的是哪一法律文献？(2分) 该文献起了什么作用？(2分)

(4) 根据上述材料，你认为推动美国发展的因素有哪些？(4分)


三、简答题(本大题有1小题，共13分)

23. 中国共产党成立95年以来，为求得民族独立、国家富强和人民幸福，披荆斩棘，开拓创新，取得了辉煌成就。结合所学知识，回答下列问题：

【独立篇】



中共“一大”会址



开国大典

(1) 1921年7月，中共“一大”在_____召开(后转移到浙江嘉兴南湖的一艘游船上)，标志着中国共产党的诞生。(2分) 经过28年的艰苦奋斗，党领导人民取得了新民主主义革命的胜利。1949年10月1日，开国大典的举行标志着_____，中国人民从此站起来了。(2分)

【成就篇】



图1 《乔的笑》

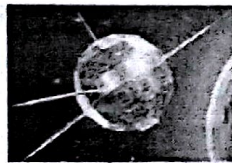


图2 东方红1号卫星



图3 尼克松访华



图4 中国第一颗原子弹爆炸成功



图5 鞍山大型轧钢厂

(2) 在中国共产党领导下，新中国取得了巨大成就。仿照下表示例，对上述图片进行归类。(4分)


类别	成就
经济	
科技	图2、_____
	_____、图3

【思考篇】

材料一 俄罗斯科学院远东研究所所长米哈伊尔·季塔连科说：“中国成功的根本原因在于中国共产党能够按照变化了的时代条件，及时平稳地调整党和国家的发展政策，用不断创新的、中国化的马克思主义指导实践。”

——新华网

材料二



崛起中的深圳

1980年产粮	5.02亿千克
1981年产粮	6.70亿千克
1982年产粮	7.15亿千克

凤阳县农业生产三年三大步

(3) 请结合材料二与所学知识，证明材料一中的观点。(5分)