

2013 届高三文综选择题专项训练

拟题人：陈雪梅 钟燕 刘声平 时间 2012-11-19

本卷共 45 个小题，每小题 4 分，共 180 分。在每小题给出的四个选项中，只有一项是符合题目要求的。

我国某中学地理研究性学习小组对霜冻现象进行探究性学习。下图是他们通过长期收听天气预报绘制的我国东部地区的平均初霜、终霜日期曲线图。据此回答 1~3 题。

1. 图中初霜、终霜出现时间差异很大，造成这种差异的根本因素是()

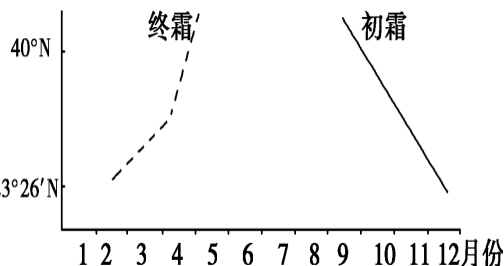
- A. 作物品种 B. 纬度位置
C. 海陆位置 D. 地形

2. 不利于霜冻发生的条件是()

- A. 天气严寒 B. 地面辐射强
C. 微风 D. 大气逆辐射强

3. 为了探究霜冻对农业生产的影响，小组成员在棉花试验田中铺了一层粗砂进行试验。与不铺砂的棉田相比，铺砂棉田的()

- A. 霜冻发生几率增加 B. 霜冻发生几率减少
C. 棉花花期不变 D. 棉花花期滞后

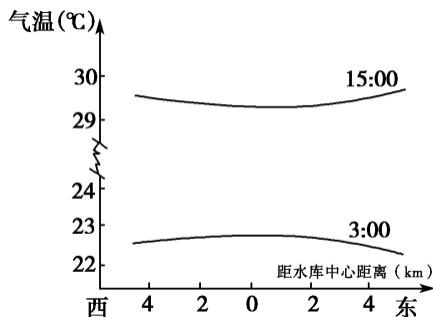


我国南方某地新建一小型水库，某日两时刻测得水库及其东西两侧气温分布如下图所示，据此回答 4~6 题。

4. 关于水库及其周围地区气温的描述正确的是()

- A. 水库中心区的气温日变化最大
B. 水库中心区的气温日变化最小
C. 一天中水库中心区的气温始终高于东西两侧地区的气温

D. 一天中水库中心区的气温始终低于东西两侧地区的气温

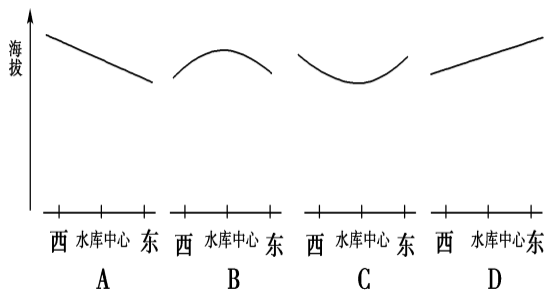


5. 由于水库与周围地区存在着气温差异，

导致水库与周围地区之间形成了热力环流。关于该热力环流的描述正确的是()

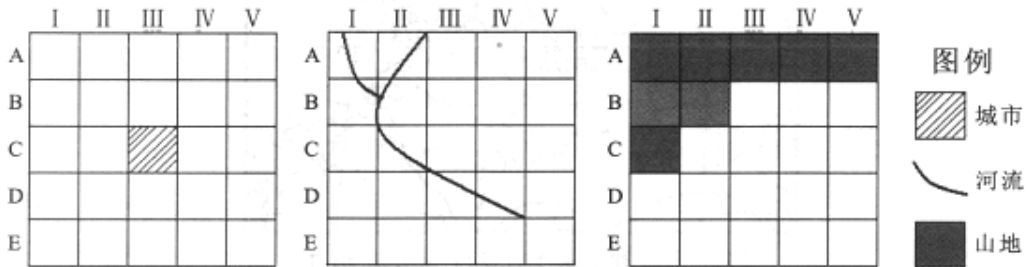
- A. 热力环流的方向不变
B. 水库中心区始终存在上升气流
C. 白天风由水库吹向四周
D. 晚上风由水库吹向四周

6. 右图中与 15 时水库东西方向的高空等压面的剖面线相符的示意图为()



栅格模式是储存分析地理空间数据的主要方式之一。下图示意我国东南沿海某地

不同地理图层的栅格图，每格实际面积约 100 平方千米。读图完成 7~8 题。



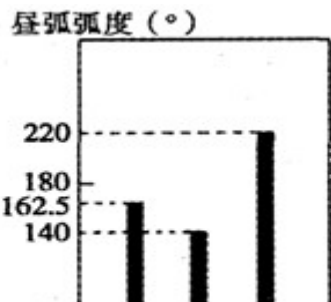
7. EV 区域最可能是 ()
 A. 丘陵 B. 耕地 C. 海域 D. 沙漠

8. 该地规划修建大型山水生态公园，最适宜的区域是 ()
 A. I B B. C C. D D. E

某校地理兴趣小组的同学，将某一天三地的昼弧长短状况绘成示意图。读图，完成 9-10 题。

9. 两地所在的半球是 ()
 A. 地在北半球， 地在南半球
 B. 地在南半球， 地在北半球
 C. 同在北半球
 D. 同在南半球

10. 北京、 三地纬度高低关系排列正确的是 ()
 A. 北京 > > B. > > 北京
 C. > = 北京 D. < = 北京

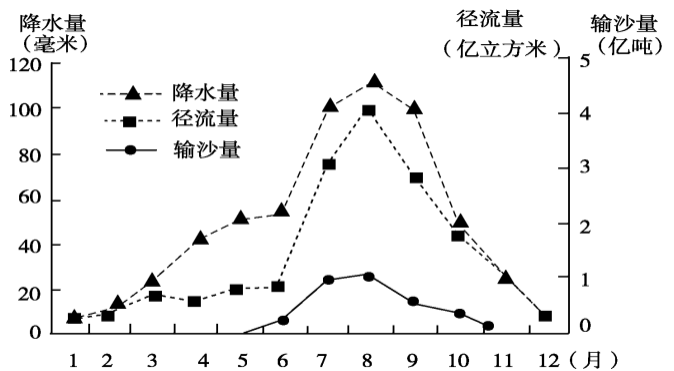


右图为“我国某河流中游水文观测站多年月平均降水量、径流量、输沙量变化图”。读图回答 11~13 题。

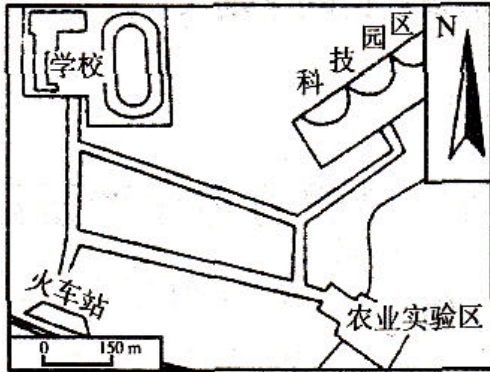
11. 该流域
 A. 雨水是河水主要的补给来源
 B. 降水量主要集中在春秋季节
 C. 径流量随降水量同步增减
 D. 枯水期流量小，输沙量大

12. 该流域的主要环境问题是
 A. 土地沙漠化 B. 水土流失
 C. 土壤盐碱化 D. 地面沉降

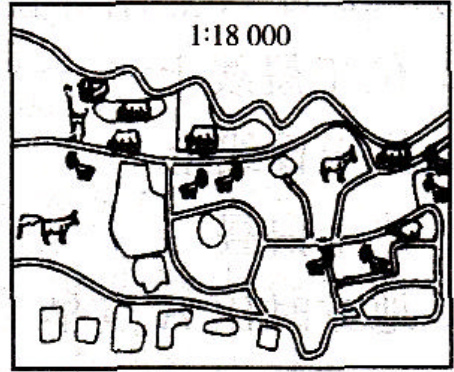
13. 该环境问题易导致下游：
 A. 径流量减少，不易决堤泛滥 B. 径流量增多，季节变化减小
 C. 输沙量大，水库淤积严重 D. 流速减慢，利于内河航运



读图，完成第 14~15 题。



图甲



图乙


14. 有关两图的说法正确的是()

- A. 比例尺甲大于乙
- B. 甲为地图，乙为景观图
- C. 比例尺均为数字式
- D. 乙图中的动物形象属于注记

15. 关于甲图的叙述，正确的是()

- A. 沿公路从火车站到农业实验区，其方向是先向正北后向正东
- B. 火车站与学校相距约 375 千米，与农业实验区相距约 580 千米
- C. 火车站位于科技园的西南方向
- D. 若比例尺放大 1 倍，则图幅面积将增大 2 倍

16. 夏、商、周三代是中华文明的勃兴时期，下列文物图片中最能够反映这一时期中华文明的成就是



A

B

C

D

17. “予之定名‘中华民国’者，盖欲于革命之际，在破坏时则行军政，在建设时则行训政。所谓训政者，即训练清朝之遗民而成为民国之主人翁，以行此直接民权也。有训政为过渡时期，则人民无程度不足之忧也。”“除宪法上规定五权分立外，最要的就是县治理，行使直接民权。”孙中山对民权主义的阐述与英美宪政的相同点

- 都反对专制
- 都倡导主权在民
- 都强调直接民权
- 都强调权力制衡

A. B. C. D.

18. 全国的经济区域呈现出多样性和经济实力发展不平衡特点，其形成过程在

A 春秋战国时期 B 战国到秦朝 C 战国到西汉 D 战国到东汉

19. 关于近代资本主义代议制说法不正确的是

A. 是一种间接民主的形式 B. 议会在形式上代表民意行使国家权力

C. 议会拥有立法大权 D. 议会具有至高无上的权力

20. 钱穆在评论中国古代某制度时说，它“可以培植全国人民对政治之兴味……可以团结全国各地域于一个中央之统治”。这一制度是

A. 郡县制 B. 察举制 C. 科举制 D. 行省制

21. 甲午战争后的“公车上书”与巴黎和会时的五四运动都是爱国救亡运动，但两者的规模与影响差别甚大，其主要原因在于

A. 民族觉醒程序与群众基础不同 B. 外交失利导致的损害程序不同

C. 大众传媒发展水平与方式不同 D. 列强攫取中国利权的手段不同

22. 日内瓦会议后，毛泽东就外交问题指出：“关门关不住，不能关，而且必须走出去。”这里，“必须走出去”的战略意义在于

A. 缓和中苏关系恶化的局面 B. 行使安理会常任理事国的权力

C. 重建中美间战略伙伴关系 D. 发挥在国际关系中应有的作用

23. 美国首都华盛顿所在地原是一片荒无人烟的灌木丛林。联邦政府机构位于城市中心，国会大厦建在全城最高点“国会山”上，在其两侧分别是总统府和联邦最高法院。以建都时各州名称命名的 15 条大道由内向外辐射，覆盖全城。华盛顿的建筑规划体现的美国政治文化是

A. 白手起家的开拓精神 B. 议会中心与共和意识

C. 三权分立与制衡原则 D. 平等独立的州权观念

24. 雨果曾说：“总会有这么一天，到那时，你们法国、你们俄国、你们英国，所有的欧洲国家，无须丢掉你们各自的特点和闪光的个性，都将紧紧地融合在一个高一级的整体里；到那时，你们将构筑欧洲的友爱关系。”今日欧盟实现了雨果的哪一理想？

A. 西欧已构筑起“友爱关系”的坚实基础

B. 欧洲所有大国都已“紧紧地融合”

C. 超国家的联合体已消除了成员国的特点个性

D. 法、俄、英是“高一级的整体”的核心

25. 2011 年 5 月 1 日深夜，“基地”组织领导人本·拉登在巴基斯坦被美军击毙。许多国家发表声明，对此表示支持，并强调世界各国应共同打击恐怖主义。由此可以看出

反恐斗争有赖于国际社会的合作 恐怖主义成为全球化的主要障碍

恐怖主义滋生的土壤由此被铲除 恐怖主义依然是国际社会的公敌

A. B. C. D.

26. 美国前驻华大使司徒雷登在《在华五十年》中写道：“美国的强大及其在自由和安全事业中的领导地位，使它成了自由国家抵抗共产主义威胁的领袖”。20 世纪 50

年代，体现美国充当这一“领袖”的史实是

- A. 提出杜鲁门主义
- B. 抛出马歇尔计划
- C. 北约与华约的对峙
- D. 在越南发动“特种战争”

27. 精耕细作是我国古代农业生产的主要模式。推动这一模式形成和发展的原因不包括（ ）

- A. 耕作工具不断改进
- B. 生产组织的小型化
- C. 水利设施逐渐完善
- D. 土地兼并日趋加剧

28. 2010年12月24日至26日，在广东省阳江市体育馆举行“‘南海一号’文物图片展”，“南海一号”是一艘沉没于800多年前南宋时期的木质古沉船，出水瓷器数千件，品种极多，其中有许多“洋味”十足的瓷器。专家们认为“南海一号”具有非同寻常的学术价值，其可供研究的“学术价值”体现在

海上丝绸之路的盛况 宋代造船技术的发展 手工工场的生产状况
制瓷技术的进步 “洋味”十足的瓷器是指珐琅瓷

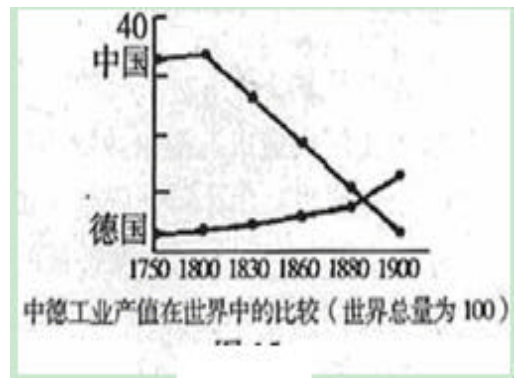
- A.
- B.
- C.
- D.

29. 斯塔夫里阿诺斯在《全球通史》中说：“皇帝却下诏禁止进一步海外远征……在世界历史的这一重要转折关头，正是制度结构上和向外推动力方面的根本差别，使中国的力量转向内部，将全世界的海洋留给了西方的冒险事业。”下列说法不正确的是

- A. 禁止海外远征的原因是国力匮乏
- B. 强化专制统治是明朝从制度结构上把力量转向内部的原因
- C. 经济形态的差异导致东西方对外推动力的出现根本差别
- D. 中西交流被阻断导致中西实力易位

30. 以下对右图的解读，正确的是

- A. 德国工业化进程始终缓慢
- B. 列强侵略造成中国工业产值不断下降
- C. 工业革命开始时中国工业产值落后于德国
- D. 社会制度的变迁造成两国经济地位的逆转




31. 2012年的中央“一号文件”明确提出，要再接再厉、迎难而上、开拓进取，奋力夺取农业好收成，确保农产品有效供给。千方百计保障农产品有效供给的经济学依据是

价值决定价格 供求影响价格
生产决定消费 生活必需品的价格弹性小

- A、
- B、
- C、
- D、

32. 漫画《自动售货机》给每一个经济活动参加者的启示是



树立正确的金钱观 遵守诚实守信的市场交易原则
 要发挥宏观调控对资源配置的基础性作用 市场调节具有自发性

- A. B. C. D.

33. 企业在追求经济效益的同时必须承担相应的社会责任。以下属于企业社会责任的是

遵守法律，诚实守信 节能减排，保护环境
 依法纳税，热心公益 筹集资金，扩大生产

- A. B. C. D.

34. 目前，越来越多的人抛开了“买不起才租”的旧观念，过起了“租生活”，使过去的“买—用—扔”单线型消费变为现在的“租—用—还”循环型消费。“租生活”

提高了商品的价值 降低了商品的价格
 体现求实消费心理 符合绿色消费原则

- A. B. C. D.

35. 小王储蓄 10000 元人民币，定期 1 年，年利率 3%。当时用 10000 元人民币可以购买 100 件甲商品。假定一年后，生产甲商品的社会必要劳动时间增加 25%，其他条件不变，小王用本息能购买到甲商品的数量是

- A. 109 件 B. 103.75 件 C. 82.4 件 D. 80 件

36. “事不公则心不平，心不平则气不顺，气不顺则难和谐”。在推动我国经济社会发展的过程中，必须深入推进收入分配制度改革，正确处理好效率与公平的关系。这就要求我们做到

既要落实分配政策，又要提倡奉献精神 既要鼓励创业致富，又要倡导回报社会
 既要反对平均主义，又要反对收入差距 初次分配注重效率，再分配中强调公平

- A. B. C. D.

37. 当前，我国仍有不少企业存在侵犯员工权益的行为，主要表现在：工作环境和条件恶劣，安全事故频发；不签劳动合同；超时加班现象严重；工资低于最低工资标准，长期拖欠工资；工会形同虚设。这要求政府

制定相关法规，建立健全协调劳动关系的法律制度

树立以人为本的经营理念，改善职工生产生活条件
积极履行职能，坚持对人民负责的工作原则
加大劳动保障监察执法力度，切实维护劳动者权益

A. B. C. D.

2012年4月国务院出台了《校车安全管理条例》，力求使校车成为学生安全的流动校舍，为孩子们建立起安全无忧的绿色通道。据此回答8--10题

38. 国务院此举

完善政府建设，做到有法可依 参与校车运营，强化政府责任
坚持以人为本，实现依法行政 健全校车法规，推进依法行政

A. B. C. D.

39. 我国政府高度关注中学生的生命安全，为孩子们建立起安全无忧的绿色通道。从根本上说，这是因为

A. 我国的人民民主具有广泛性 B. 我国政府是便民利民的政府
C. 中国政府高度重视和保障人权 D. 我国是人民当家作主的社会主义国家

40. 按照我国的管理体制，安全工作历来实行“以县为主，属地管理”的原则，针对校车事故所暴露出来的问题，假如你是当地人大代表，可以

行使质询权，督促当地政府依法落实《校车安全管理条例》
行使提案权，联名其他代表提请人大制定本地校车管理方案
行使任免权，罢免在校车安全上投入尚不足的领导者
行使决定权，统筹当地政府的财政教育管理经费投入

A. B. C. D.

41. 2012年，工商部门将在全国组织开展重点针对供水、供电、供暖、供气等领域的霸王条款的整治行动。这表明我国政府

积极履行提供公共服务的职能 积极履行组织经济建设的职能
依法行政，不断提高执法水平 审慎用权，努力做到执政为民

A. B. C. D.

42. 为做好十八大代表的选举工作，中共中央印发了《关于党的十八大代表选举工作的通知》，对十八大代表的选举工作作出了一些具体要求：如代表应当具有坚定的理想信念、正确的政治立场、良好的品德作风、优秀的工作业绩和较强的履行代表职责能力；要有经济、科技、国防、政法、教育、宣传、文化、卫生、体育和社会管理等各方面的代表；增加生产和工作第一线代表尤其是提高工人党员代表的比例……这些要求（ ）

鲜明地体现了中国共产党的性质 表明人民民主具有广泛性和真实性
有利于壮大最广泛的爱国统一战线 有利于反映最大多数党员的意愿和要求

求

A. B. C. D.

43. 我国《基本农田保护条例》明确规定“禁止任何单位和个人占用基本农田发展林

果业和挖塘养鱼”。某县政府未经任何程序的审批，强行要求农民把麦田变成果园，用基本农田种植苹果。该县政府违背了依法行政具体要求中的

合法行政 高效便民 程序正当 权责统一

A . B . C . D .

44. 2012 年，微博继续保持高速发展，微博已成为分民参政问政的重要方式。很多政府官员、人大代表、政协委员也开始通过微博搭建与群众沟通的平台。群众通过微博参与政治生活

- A . 开辟了公民直接参与行使国家权力的有效途径
- B . 便于上述国家机关工作人员了解民情，提高决策的科学性
- C . 有利于公民通过多种形式和渠道实现有序的政治参与
- D . 是公民有序参与管理国家、社会的基础和标志

45. “三公”经费公开，是指政府部门人员在因公出国(境)经费、公务车购置及运行费、公务招待费产生的消费向社会公开。公开“三公”经费()

- 是建设“阳光政府”、“法治政府”的基本要求
- 有利于对政府权力进行制约和监督
- 使社会主义民主进程得到充分的推进
- 要求坚持个人利益与国家利益相结合的原则

A . B . C . D .

2013 届高三文综选择题专项训练

答案：20121119

地理	1—15	B D B B C	C C B D D	A B C A C
历史	16—30	B C D D C	A D C A A	C D B A D
政治	31—45	B C B D C	A D C D A	B A B C D

2013 届高三文综选择题专项训练

答案：20121119

地理	1—15	B D B B C	C C B D D	A B C A C
历史	16—30	B C D D C	A D C A A	C D B A D
政治	31—45	B C B D C	A D C D A	B A B C D

2013 届高三文综选择题专项训练

答案：20121119

地理	1—15	B D B B C	C C B D D	A B C A C
历史	16—30	B C D D C	A D C A A	C D B A D
政治	31—45	B C B D C	A D C D A	B A B C D

2013 届高三文综选择题专项训练

答案：20121119

地理	1—15	B D B B C	C C B D D	A B C A C
历史	16—30	B C D D C	A D C A A	C D B A D
政治	31—45	B C B D C	A D C D A	B A B C D

2013 届高三文综选择题专项训练

答案：20121119

地理	1—15	B D B B C	C C B D D	A B C A C
历史	16—30	B C D D C	A D C A A	C D B A D
政治	31—45	B C B D C	A D C D A	B A B C D